


المستوى: التحضيري (Préparatoire) فيفري : 2017

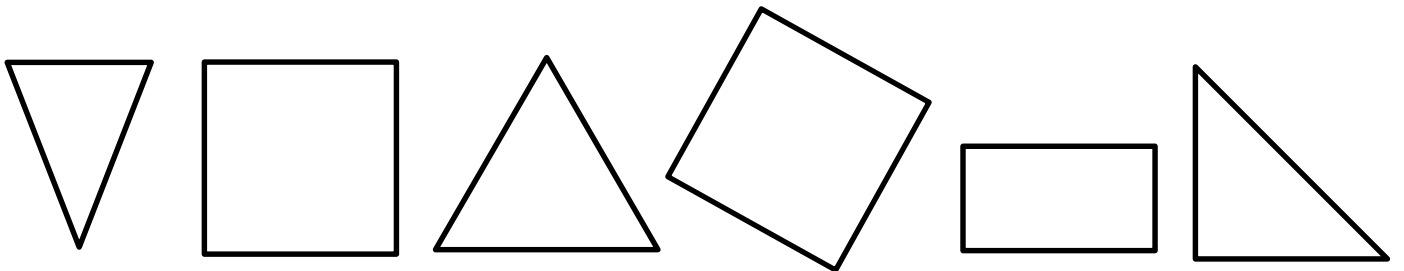
المختار الفصل الثاني في مادة الرياضيات

.	مكتسب +
.	في طريق الإكتساب
.	غير مكتسب -

1- ألون الحيوان الذي تصل اليه الدجاجة الأول متبعا المسار القصير



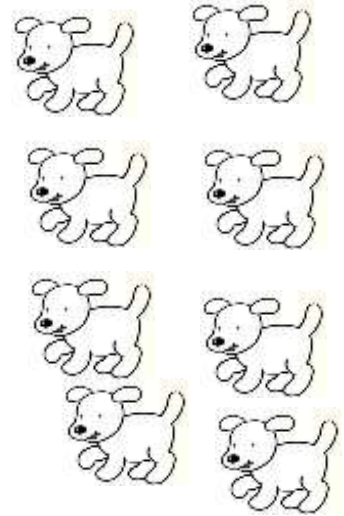


2- ألون المربعات باللون الأحمر والمثلثات باللون الأخضر




3- أكمل كتاب الأعداد على الشريط العددي

.	2	.	.	5	.	7	.	9	.
---	---	---	---	---	---	---	---	---	---


4- أعدّ و أكتب العدد المناسب في الخانة




5- أرسم قريصات داخل كلّ حيز.



6



4



5