


فرض الفصل الثالث في مادة الرياضيات

ماي 2016

المستوى: التحضيري الابتدائي (Préparatoire)

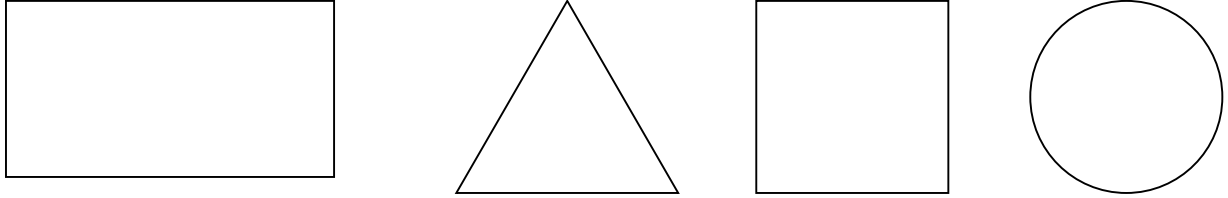
1 - ألون أطول شجرة باللون الأخضر وأقصر شجرة بالأصفر



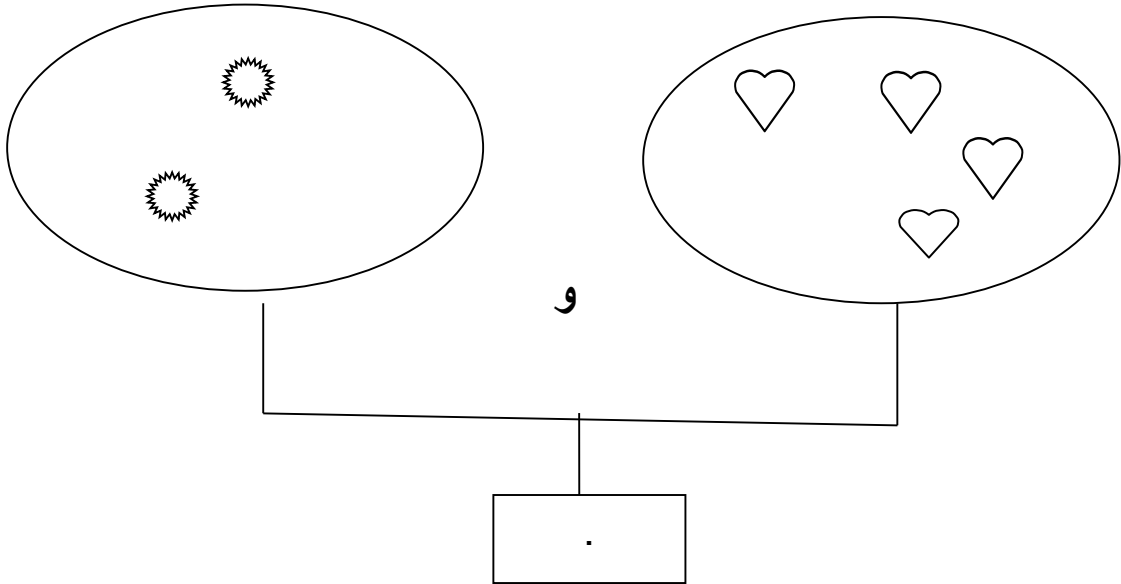
2- أكمل كتابة الأعداد بالترتيب

.	2	.	4	.	6	.	.	.	10
---	---	---	---	---	---	---	---	---	----

3- ألون المربع باللون الأخضر ، المثلث بالأحمر ، المستطيل بالاصفر
و الدائرة بالازرق .



4- أكتب في الخانة العدد المناسب



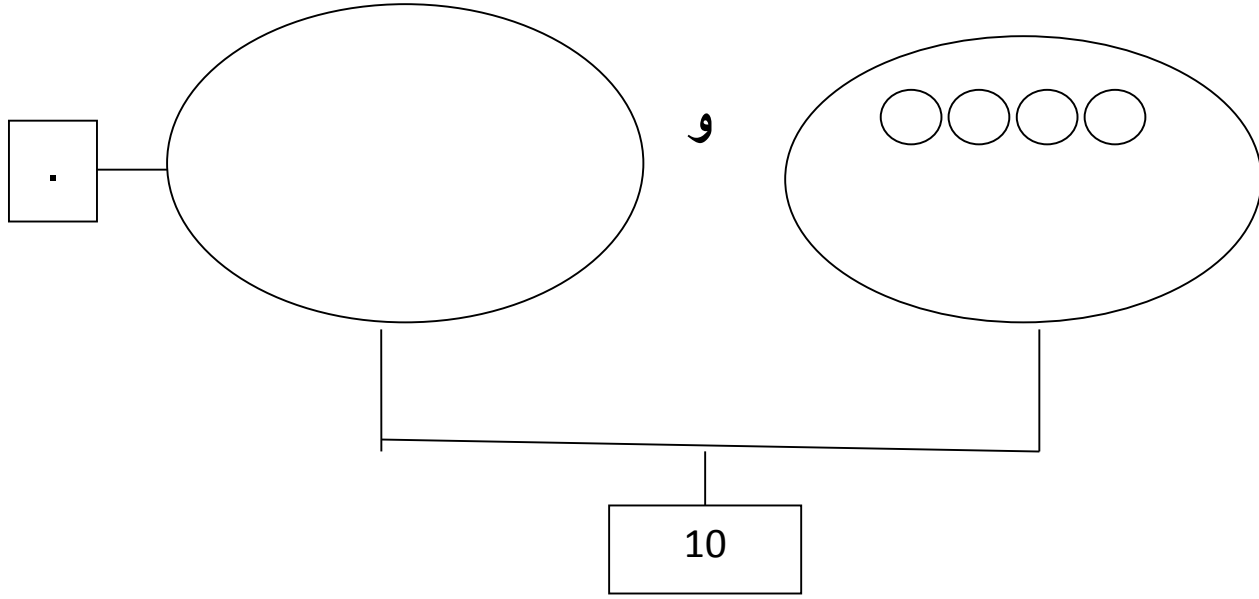
5- أكتب في الخانة العدد المناسب

.	5	.
---	---	---

.	.	9
---	---	---

1	.	.
---	---	---

6- أكمل الرّسم ليصبح عدد القريصات 10 ثم أكتب كم أكملت في البطاقة



الرياضيات

1 - ألون أطول شجرة باللون الأخضر وأقصر شجرة بالأصفر (0,5 ن)




2- أكمل كتابة الأعداد بالترتيب (1,5 ن)


1	2	3	4	4	6	7	8	9	10
0,25		0,25		0,25		0,25	0,25	0,25	

3- ألون المربع باللون الأخضر ، المثلث بالأحمر ، المستطيل بالأصفر


و الدائرة بالازرق . (2 ن)




0,5



0,5

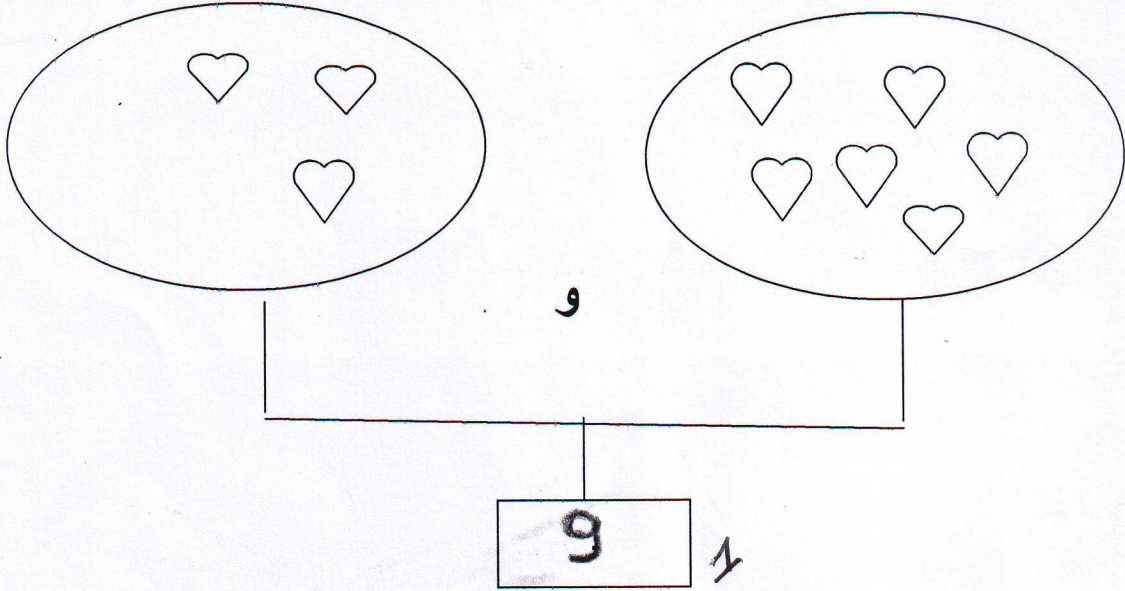


0,5

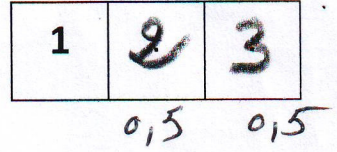
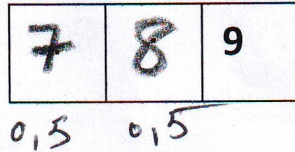
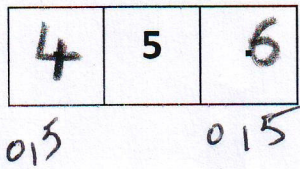


0,5

4- أكتب في الخانة العدد المناسب (1ن)



5- أكتب في الخانة العدد المناسب (3ن)



6- أكمل الرسم ليصبح عدد القريصات 10 ثم أكتب كم أكملت في البطاقة (2ن)

