

اختبار الفصل الثالث في مادة الرياضيات
المستوى: تحضيري (Préparatoire)
ماي 2014
almotawer.tn

التمرين الأول : أكتب العدد المناسب في الخانة الفارغة :

7	...	9
---	-----	---

8	...	10
---	-----	----

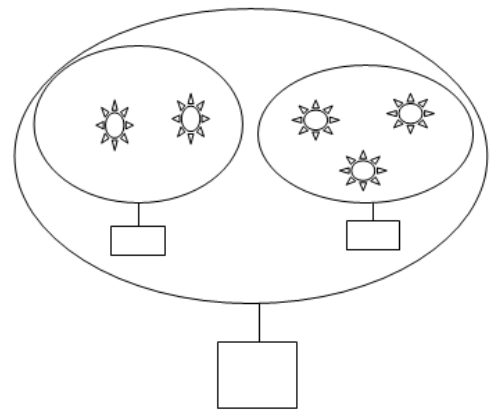
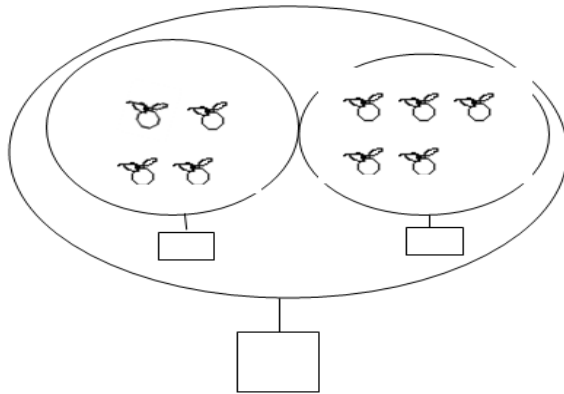
1	...	3
---	-----	---

4	...	6
---	-----	---

2	...	4
---	-----	---

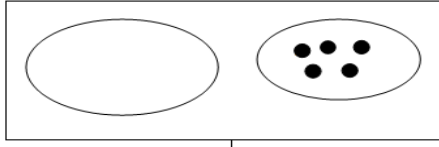
3	...	5
---	-----	---

التمرين الثاني : أحسب و أكتب العدد المناسب في البطاقة :

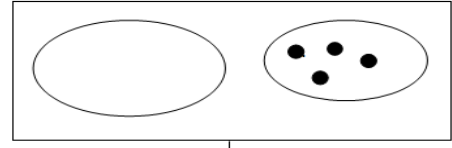


التمرين الثالث : أكمل رسم المربعات لتتحقق الإستقامية :

التمرين الرابع : أكمل الرسم ليصبح عدد الكريات 10


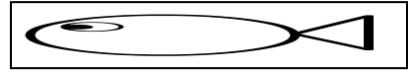




10



10

التمرين الخامس : وزعت رباب الأسماك على القطين بالتساوي



أكلت كلّ قطة



بقي عند رباب

ثمّ لوّن الشكل

5

إلى

1

التمرين السادس : أرسّم خطوط بإستعمال المسطرة من

1

•

• 4

3

•

5

•

•

2