

اختبار الفصل الثالث في مادة التربية العلمية

ماي 2014

المستوى: تحضير (Préparatoire)

التمرين الأول: أربط كل شكل بالرقم المناسب لسعته






4

3

2

1

التمرين الثاني: أضع حرف " أ " في بطاقة الحيوان الأليف و حرف " ح " في بطاقة الحيوان المتوحش، ثم أربطه بغدائه المفضل



التمرين الثالث: ألون بطاقة الصورة المعبرة على المحافظة على الطبيعة



التمرين الرابع : أكمل رسم أغصان و أوراق و جذور هذه الشجرة

