

فيفري 2014

المستوى: تحضير ابتدائي (Préparatoire)

الإختبار رقم 1 للفصل الثاني في مادة الرياضيات

النشاط الأول:

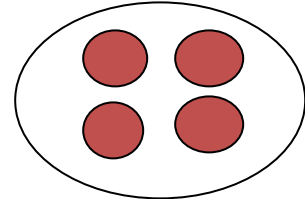

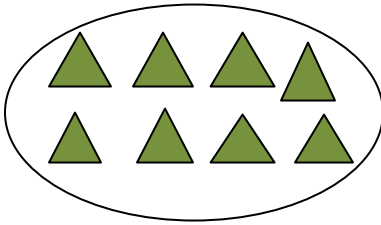
ارتب الأرقام:

4.3.5.1.2

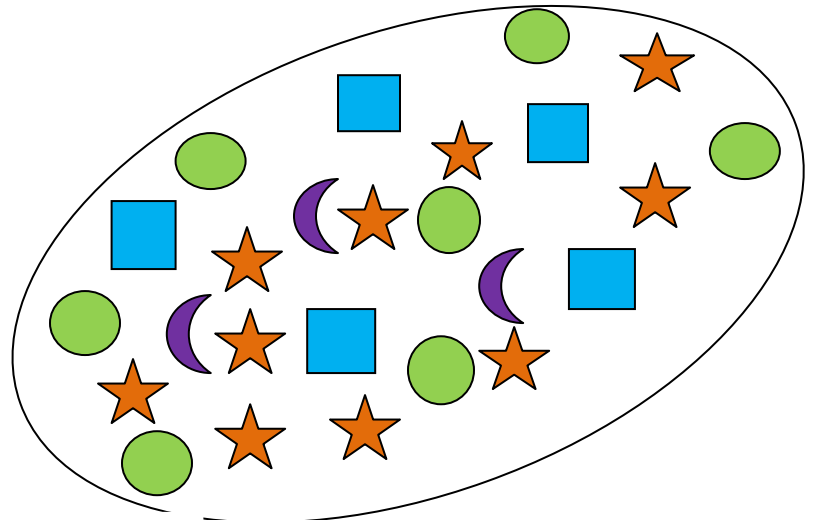
أكمل الشريط العددي:

.	.	3	.	5	.	.	8	.	10
---	---	---	---	---	---	---	---	---	----

النشاط الثاني: احسب ثم اكتب العدد:




النشاط الثالث: اكتب عدد الأشكال



النشاط الرابع:

أحيط كل ثلاث تفاحات:

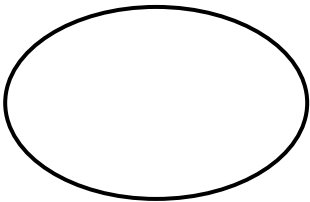


أحيط كل قلمين:

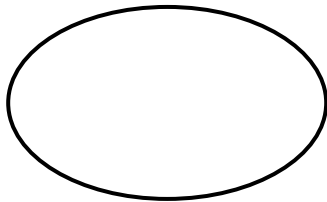


النشاط الخامس:

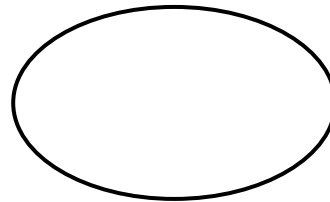
أرسم أزهارا بقدر العدد المكتوب في البطاقة



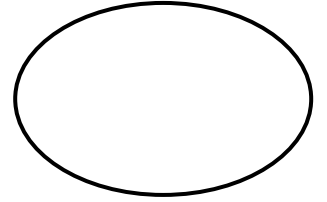
5



2



3



4