

• • • •
• •

التمرين 1 (1.5)

سعة قارورة ماء معدني لتر و نصف لتر ماء أي Cl.....

وضع خضار في شاحنته hg 817 من البرتقال و hg 183 من الموز، فصارت حمولة

الشاحنة.....100

التمرين 2 (1.5)

مركز الدائرة.....

قطر الدائرة هو.....وقيسه cm.....

نصف قطر الدائرة هو..... وقيسه cm.....

التمرين 3 (1.5)

استعمل مرة واحدة الأعداد (16،9،7) لملء فراغات كل مساوات/

$$79=(\dots\dots\times\dots\dots)+\dots\dots$$

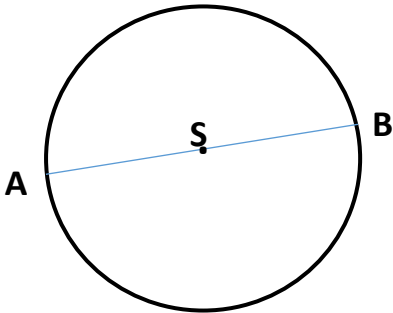
$$121=(\dots\dots\times\dots\dots)+\dots\dots$$

$$151=(\dots\dots\times\dots\dots)+\dots\dots$$

التمرين الرابع: (1.5)

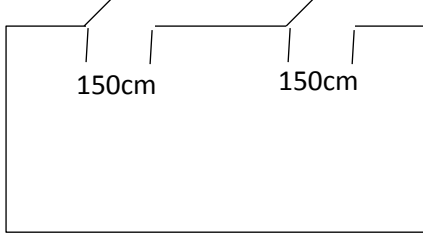
جمعت لينة 269 ديناراً وجمع أخوها 7 أضعاف ما عند لينة.

كم يملك الأخوان معاً؟



الوضعية الإدماجية

قسمك مستطيل الشكل له مدخلان ، و مبلّط ببلاطات مربعة الشكل طول ضلعها 25 cm عدد البلاطات في



العرض 26 بلاطة وفي العرض 35 بلاطة.

-احسب طول القسم.

-احسب عرض القسم.

-أراد التلاميذ تزيين الجدران بشريط من الورق اللاصق

لاحظ الشكل جيّدا ثمّ أحسب طول الشريط اللازم شراءه.

بالتوفيق

الإصلاح

التمرين 1 (1.5ن)

_سعة قارورة ماء معدني لتر و نصف لتر ماء أي 150 cl.

_وضع خضار في شاحنته 817 hg من البرتقال و 183 hg من الموز، فصارت حمولة

الشاحنة.100.kg

التمرين 2 (1.5ن)

مركز الدائرة.0

قطر الدائرة هو BA.وقيسه 5cm

نصف قطر الدائرة هو OA..... وقيسه 2.5cm.

التمرين 3 (1.5ن)

استعمل مرة واحدة الأعداد (16،9،7) لملء فراغات كل مساوات/

$$79=(.7.\times.9)+16..$$

$$121=(.7.\times.16)+.9.$$

$$151=(9.\times 16)+7$$

التمرين 4

الحل:

$$2152 =269+ (269\times 7)$$

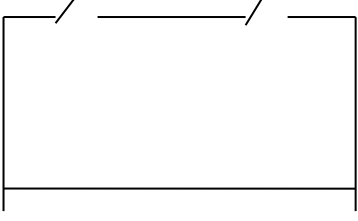
يملك الولدان معا: 2152دينارا

الوضعية الإدماجية

قسمك مستطيل الشكل له مدخلان ، و مبلط ببلاطات مربعة الشكل طول ضلعها 25 cm عدد البلاطات في

العرض 26بلاطة وفي العرض 35 بلاطة.

طول القسم.855 CM



- عرض القسم. 650CM.

-أراد التلاميذ تزيين الجدران بشريط من الورق اللاصق

طول الشريط اللازم شراءه.

$$(855+650)*2-2=3008\text{cm}$$