

التمرين 1 : صنف الموارد الطبيعية التالية في الجدول :

- الحديد ✧ المياه ✧ البترول ✧ الغابات ✧ الذهب ✧ الطاقة الشمسية ✧
الفوسفات ✧ الطاقة الريحية ✧ الجلود و الصوف ✧ اشجار الفلين .

الموارد الطبيعية المتجددة	الموارد الطبيعية غير المتجددة

التمرين 2 : أجب بـ (صحيح) أو (خاطئ) أمام كل عبارة، وضح الخطأ إن وجد .

◀ - البترول من أنواع الموارد المعدنية

◀ -

◀ - الطاقة الشمسية من الموارد الطبيعية المتجددة

◀ -

◀ - التعليم من العمل الإنتاجي الآمادي

◀ -

◀ - إستغلال الموارد الطبيعية غير المتجددة بشكل غير عقلاني يؤدي إلى استمرارها

◀ -

◀ - البترول من أنواع الموارد المعدنية

◀ -

◀ - الفحم الحجري من الموارد الطبيعية المتجددة

◀ -

◀ - الثَّورَةُ الْعَابِيَّةُ مِنَ الْمَوَارِدِ الَّتِي تَسَاهِمُ فِي تَطْوِيرِ الْفِلاحةِ
- ▶

◀ - الذَّهَبُ مِنْ أَنْوَاعِ الْمَوَارِدِ الطَّاقُوِيَّةِ
- ▶

◀ - تتركز حقول الغاز الطبيعي في الشرق
- ▶

◀ - يعد الفوسفات من المعادن الأساسية لزراعة
- ▶

التمرين 3 : ضع كل كلمة في مكانها المناسب :

طبيعية ☆ الاقتصاد ☆ الوطن ☆ معدنية ☆ طاقة

تملك الجزائر موارد و و في أنحاء كثيرة من

..... وهذه الثروة الطبيعية تعدُّ موردًا الوطني .

التمرين 4 : إربط بينهم كل عبارة بما يناسبها :

● - المؤسسات التربوية

● - تكريز البترول والغاز

● - صناعة الشاحنات والجرارات

● - بناء السكنات

● - مراكز الأمن والشرطة

● - القضاء والمحاكم

● - خدمات البريد

● إنتاج مادي

● إنتاج لا مادي

التمرين 5 :

تتوفر الجزائر بموارد فلاحية كثيرة تساعد على تطوير الفلاحة ، اذكر هذه الموارد :

..... - ▶

..... - ▶

..... - ▶

التمرين 6 : صنف في الجدول :

حقول الطماطم - البترول - الذهب - الغاز - بساتين البرتقال - الحديد - النفط - القمح

الموارد المعدنية	الموارد الطاقوية	الموارد الفلاحية

التمرين 7 :

تتوفر الجزائر على موارد معدنية وموارد طاقوية متنوعة ، أذكر مناطق تواجد المعادن التالية :

● - الحديد : هو أهم المعادن ومتوفر في :

● - الفوسفات : تتمركز أهم مناجمه في :

● - الذهب : يوجد في :

● - الغاز الطبيعي : تتمركز حقوله في :

التمرين 8 :

يُقصد بالموارد الطبيعية ما تُخزِنُهُ الأرضُ من موارد وهي نوعين وهما :

- المُتجددة مثل : و

- الموارد مثل : و وهي

قابلةٌ نَتِيْجَةٌ لذا يجب المحافظة عليها من خلال

.....

التمرين 9 : اربط كل منشأة بمكان تواجدها :

- | | |
|--------------|----------------------|
| • الهقار | • حقول الغاز الطبيعي |
| • جيجل | • مركب الجرارات |
| • تندوف | • مصنع الحجار |
| • عنابة | • منجم غار جبيلات |
| • قسنطينة | • مناجم الفوسفات |
| • تبسة | • مصنع بلارة |
| • عين أميناس | • منجم انتاج الذهب |

التمرين 10 : أجب بـ (صحيح) أو (خاطئ) :

- تعتبر مصانع تجميع الغاز الطبيعي كعمل إنتاجي لا مادي
- يعتبر قطاع التربية والتعليم كعمل إنتاجي مادي
- العمل الإنتاجي المادي يظهر في شكل ملموس وآنه ,
- يوجد منجم غار جبيلات بسكيكدة
- من مظاهر التنمية بناء المصانع والسكنات
- تعد الطاقة الشمسية أهم مصادر الطاقة التي تعتمد عليها الجزائر
- الجزائر هي الثانية افريقيا و عربيا و متوسطيا من حيث المساحة

التمرين 8 : أكمل الفراغات بمايناسب :

سميت الفترة التي سبقت ظهور الإسلام في شبه الجزيرة العربية ب.....

وكان العرب يتصفون في تلك الفترة بصفات سيئة ك..... و..... وأخرى حميدة

ك.....و.....وكانوا يمارسون.....مع الشعوب المجاورة .

التمرين 9 : دام الفتح الإسلامي لشمال إفريقيا حوالي 70 سنة (من 21 هـ - 90 هـ).

أذكر بعض تأثيرات هذا الفتح ؟

◀ -

◀ -

◀ -

◀ -

التمرين 10 : أكمل الفقرة بالعبارات التالية :

عمر بن الخطاب - أبوبكر الصديق - علي بن أبي طالب - عثمان بن عفان - بعدة فتوحات الشام - فارس - مصر - البيزنطيين - الغزاة - عبد الله بن أبي سرح .

♦ - بعد وفاة الرسول ﷺ تواصلت الفتوحات الإسلامية في المشرق في عهد الخلفاء الراشدين بين سنتي (632 م - 661 م) .

فأول الخلفاء الراشدين هو بتاريخ : 12 ربيع الأول سنة 11 هـ .

وثاني الخلفاء الراشدين هو بتاريخ : 23 جمادى الاخر سنة 13 هـ .

وثالث الخلفاء الراشدين هو بتاريخ : 03 محرم سنة 23 هـ .

ورابع الخلفاء الراشدين هو بتاريخ : 25 ذو الحجة سنة 35 هـ .

◀ - حيث قام الخلفاء الراشدون بين 11 هـ و 41 هـ خارج شبه الجزيرة

العربية شملت : بلاد سنة 15 هـ و بلاد سنة 16 هـ وبلاد سنة 21 هـ

وقبل الفتح الاسلامي كان شمال افريقيا خاضعا للاحتلال و كان سكانه

مستغلين من طرف

التمرين 11 : رتّب غزوات الرّسول ﷺ وخلفائه على السّلم الزّميني :

فَتْحُ مِصْرَ 21 هـ - فَتْحُ الشَّامِ 15 هـ - غَزْوَةُ بَدْرَ 2 هـ - فَتْحُ مَكَّةَ 8 هـ -
فَتْحُ فَارِسَ 16 هـ - غَزْوَةُ أُحُدَ 3 هـ .

التمرين 12 :

عندما وصل الفاتحون إلى شمال أعطوا أهمية كبيرة للعمارة الإسلاميّة وتجلّى ذلك في
مظهرين اثنين ماهما ؟

اذكرهما وفيما تمثل كل مظهر؟

..... :

..... :

التمرين 13 : أكمل الفراغات بما يناسب :

- تمّ فتح مصر سنة هجري

- تأسست مدينة القيروان سنة هجري

- تأسست مدينة تيهرت سنة هجري

- بُني أول مسجد في الجزائر سنة هجري

التمرين 14 : اربط كل مدينة بتاريخ تأسيسها :

1007 م

936 م

1068 م

909 م

اسدراتن

الناصرية

قلعة بني حماد

أشير

التمرين 1 : صنف الموارد الطبيعيّة الثّالِيّة في الجدول :

- الحدِيد ◊ المِيَاه ◊ البِترول ◊ الغابات ◊ الذهب ◊ الطّاقة الشّمسيّة ◊
الْفوسفات ◊ الطّاقة الرّيحِيّة ◊ الجلود و الصوف ◊ اشجار الفلين .

الموارد الطبيعيّة المتجددة	الموارد الطبيعيّة غير المتجددة
الطّاقة الشّمسيّة ◊ المِيَاه الطّاقة الرّيحِيّة ◊ الغابات الجلود و الصوف ◊ اشجار الفلين	الحدِيد ◊ البِترول الذهب ◊ الفوسفات

التمرين 2 : أجب بـ (صحيح) أو (خاطئ) أمام كلّ عبارة، وضح الخطأ إن وجد .

◀ - البِترول من أنواع الموارد المعدنيّة .. **خاطيء**

◀ - البِترول من أنواع الموارد الطّاقويّة ..

◀ - الطّاقة الشّمسيّة من الموارد الطبيعيّة المتجددة **صحيح**

◀ - ..

◀ - التّعليم من العمل الإنتاجي اللّامادي **صحيح** ..

◀ - ..

◀ - إستغلال الموارد الطبيعيّة غير المتجددة بشكل غير عقلانيّ يؤدي إلى استمرارها **خاطيء**

◀ - .. إستغلال الموارد الطبيعيّة غير المتجددة بشكل غير عقلانيّ يؤدي إلى نفاذها ..

◀ - البِترول من أنواع الموارد المعدنيّة .. **خاطيء**

◀ - ... البِترول من أنواع الموارد الطّاقويّة ..

◀ - الفحم الحجريّ من الموارد الطبيعيّة المتجددة **خاطيء** ..

◀ - .. الفحم الحجريّ من الموارد الطبيعيّة غير المتجددة ..

◀ - الثَّورَةُ الغَابِيَّة منَ المَوارِدَ الَّتِي تَساهِمُ في تَطويرِ الفِلاحة ... **صحيح** ..

◀ - الذَّهَب من أنواعِ المَوارِدِ الطَّاقَوِيَّة .. **خاطيء** ..

◀ - **الذَّهَب من أنواعِ المَوارِدِ المَعدنيَّة** ..

◀ - تتركز حقول الغاز الطبيعي في الشرق ... **خاطيء** ..

◀ - **تتركز حقول الغاز الطبيعي في الجنوب** ..

◀ - يعد الفوسفات من المعادن الاساسية لزراعة ... **صحيح** ..

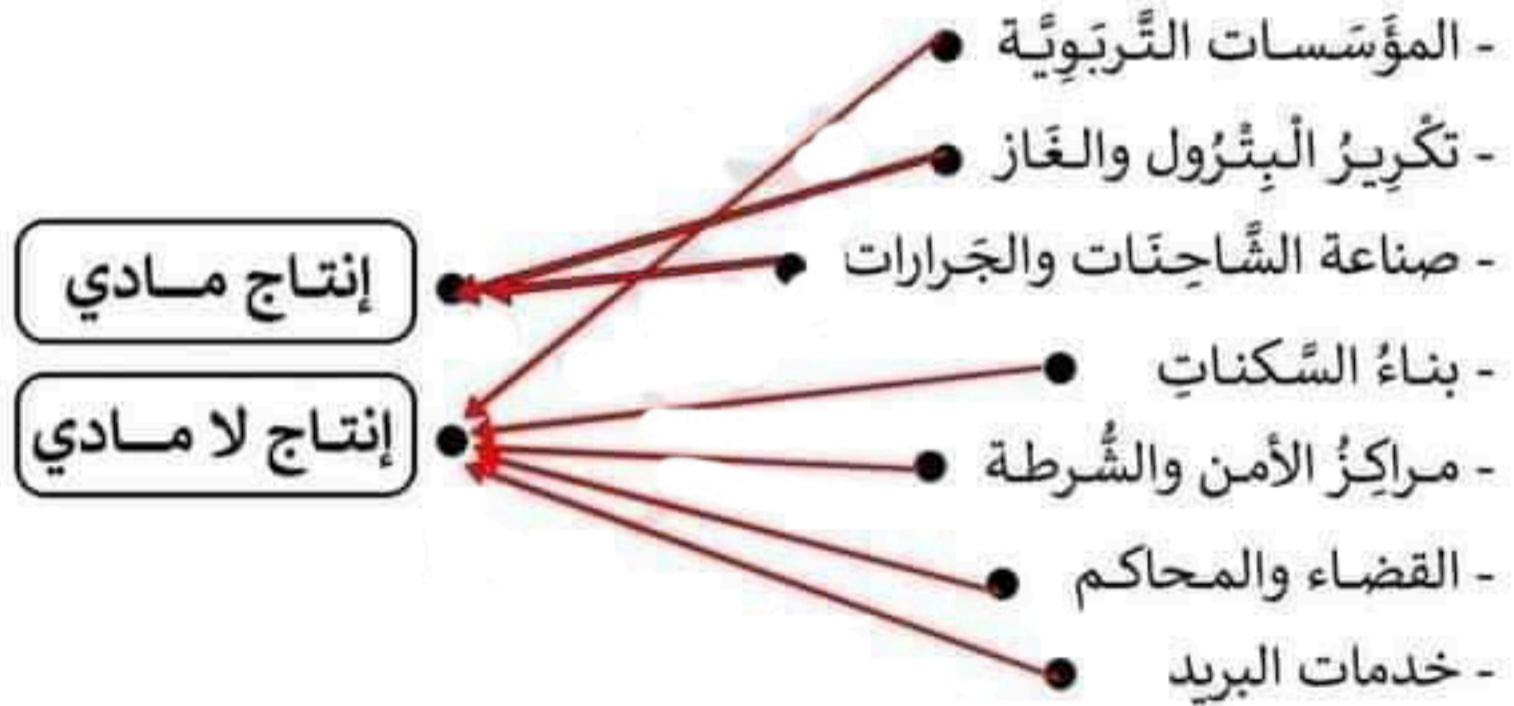
التمرين 3 : ضع كل كلمة في مكانها المناسب :

طبيعية ☆ الاقتصاد ☆ الوطن ☆ معدنية ☆ طاقة

تملك الجزائر موارد **طبيعية** ... و **معدنية** ... و **طاقة** ... في أنحاء كثيرة من

الوطن ... وهذه الثروة الطسعة تعدُّ مَورِدَ **الاقتصاد** . الوطني .

التمرين 4 : اربط بسهم كل عبارة بما يناسبها :



التمرين 5 :

تزخر الجزائر بموارد فلاحية كثيرة تساعد على تطوير الفلاحة ، اذكر هذه الموارد :

◀ - **الثَّربسة** ..

◀ - **الثروة الحيوانية** ..

◀ - **الثروة المائية** ..

التمرين 6 : صنف في الجدول :

حقول الطماطم - البترول - الذهب - الغاز - بساتين البرتقال - الحديد - النفط - القمح

الموارد المعدنية	الموارد الطاقوية	الموارد الفلاحية
الذهب	البترول	حقول الطماطم
الحديد	- الغاز	بساتين البرتقال
	النفط	القمح

التمرين 7 :

تتوفر الجزائر على موارد معدنية وموارد طاقوية متنوعة ، أذكر مناطق تواجد المعادن التالية :

● - الحديد : هو أهم المعادن ومتوفر في : **الونزة - تندوف**

● - الفوسفات : تتمركز أهم مناجمه في : **تبسة**

● - الذهب : يوجد في : **تمنراست**

● - الغاز الطبيعي : تتمركز حقوله في : **حاسي الرمل - عين صالح - عين اميناس**

التمرين 8 :

يُقصد بالموارد الطبيعية ما تُخزِنُهُ الأرضُ من موارد وهي نوعين وهما :

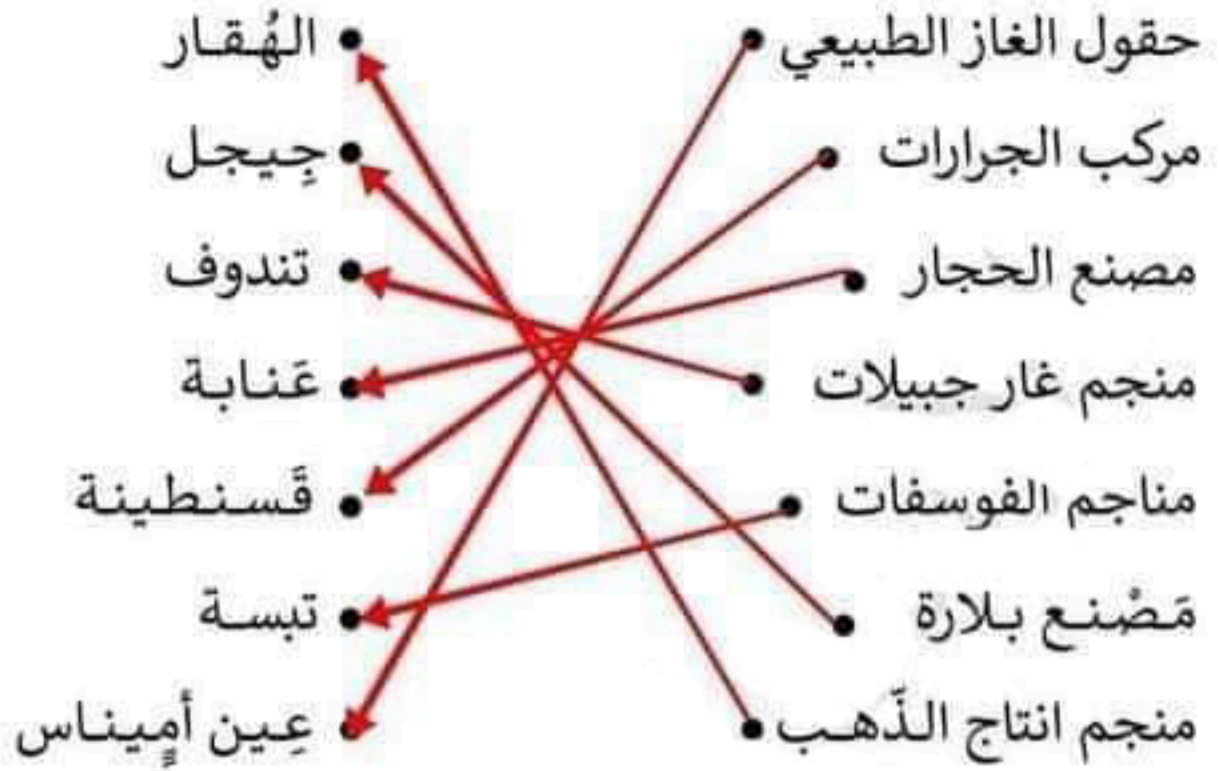
- **الموارد الطبيعية المتجددة** مثل **الطاقة الشمسية** و **الغابات**.....

- **الموارد الطبيعية غير المتجددة** مثل : **الحديد** و **الفوسفات**..... وهي

قابلةٌ... **للنفاد**... نَتيجة الإفراط. **في استغلالها** لذا يجب المحافظة عليها من خلال

... **عقلانية استغلالها**.....

التمرين 9 : اربط كل منشأة بمكان تواجدها :



التمرين 10 : أَجِبْ بِ (صحيح) أو (خاطئ) :

- تعتبر مصانع تجميع الغاز الطبيعي كعمل إنتاجي لا مادي .. **خاطئ**...
- يعتبر قطاع التربية والتعليم كعمل إنتاجي مادي **خاطئ**.....
- العمل الإنتاجي المادي يظهر في شكل هلموس وآني ... **صحيح**.....
- يوجد منجم غار جبيلات بسكيكدة ... **خاطئ**.....
- من مظاهر التنمية بناء المصانع والسكنات .. **صحيح**.
- تعد الطاقة الشمسية أهم مصادر الطاقة التي تعتمد عليها الجزائر .. **خاطئ**..
- الجزائر هي الثانية افريقيا و عربيا و متوسطيا من حيث المساحة .. **خاطئ**...

التمرين 8 : أكمل الفراغات بما يناسب :

سميت الفترة التي سبقت ظهور الإسلام في شبه الجزيرة العربية بـ **الجاهلية** ..

وكان العرب يتصفون في تلك الفترة بصفات سيئة كـ **عبادة الأصنام** و **المثأر** . وأخرى حميدة

كـ **الكرم** و **الشجاعة** ... وكانوا يمارسون **التجارة** مع الشعوب المجاورة .

التمرين 9 : دام الفتح الإسلامي لشمال إفريقيا حوالي 70 سنة (من 21 هـ - 90 هـ) .

أذكر بعض تأثيرات هذا الفتح ؟

◀ - **دخول سكان شمال إفريقيا في الدين الإسلامي**

◀ - **تجبرر سكان شمال إفريقيا من سيطرة و هيمنة الاجتلال البيزنطي**

◀ - **جعل المنطقة جسراً للتواصل بين أوروبا وإفريقيا و المشرق العربي**

◀ - **ازدهار الزراعة و تنوعها بمزروعات جديدة**

التمرين 10 : أكمل الفقرة بالعبارات التالية :

عمر بن الخطاب - أبوبكر الصديق - علي بن أبي طالب - عثمان بن عفان - بعدة فتوحات الشام - فارس - مصر - البيزنطيين - الغزاة - عبد الله بن أبي سرح .

♦ - بعد وفاة الرسول ﷺ تواصلت الفتوحات الإسلامية في المشرق في عهد الخلفاء الراشدين بين سنتي (632 م - 661 م) .

فأول الخلفاء الراشدين هو **أبوبكر الصديق** بتاريخ : 12 ربيع الأول سنة 11 هـ .

وثاني الخلفاء الراشدين هو **عمر بن الخطاب** .. بتاريخ : 23 جمادى الاخر سنة 13 هـ .

وثالث الخلفاء الراشدين هو **عثمان بن عفان** بتاريخ : 03 محرم سنة 23 هـ .

ورابع الخلفاء الراشدين هو **علي بن أبي طالب** ... بتاريخ : 25 ذو الحجة سنة 35 هـ .

◀ - حيث قام الخلفاء الراشدون بين 11 هـ و 41 هـ **بعده فتوحات** ... خارج شبه الجزيرة

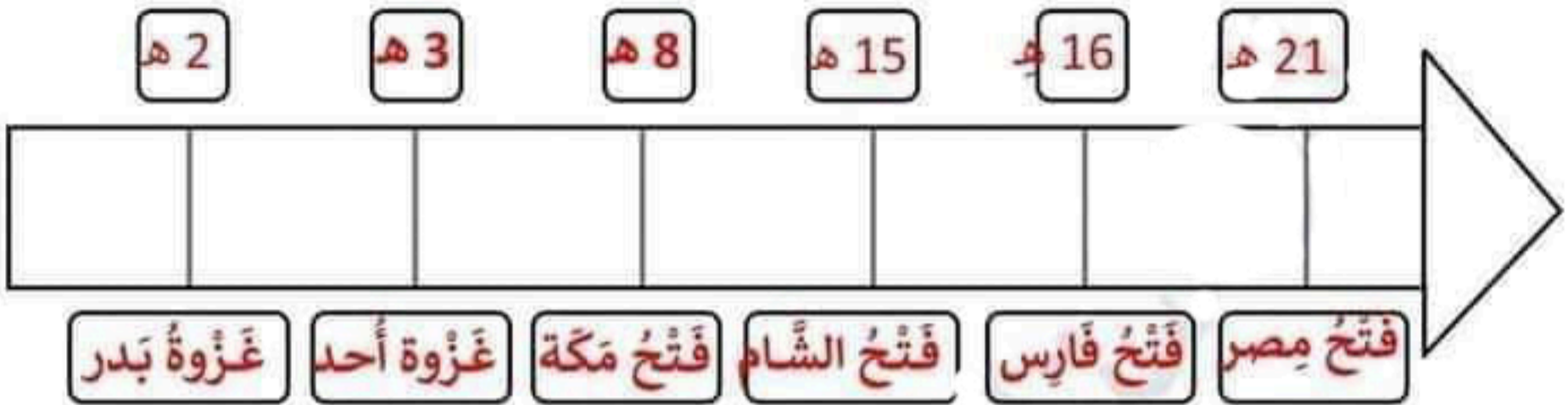
العربية شملت : بلاد **البيشام** . سنة 15 هـ و بلاد **فارس** . سنة 16 هـ و بلاد **مصر** . سنة 21 هـ

وقبل الفتح الإسلامي كان شمال إفريقيا خاضعا للاحتلال **البيزنطيين** .. و كان سكانه

مستغلين من طرف **الغزاة**

التمرين 11 : رتّب غزوات الرّسول ﷺ وخلفائه على السّلم الزّميني :

فَتْحُ مِصْرَ 21 هـ - فَتْحُ الشّامِ 15 هـ - غَزْوَةُ بَدْرَ 2 هـ - فَتْحُ مَكَّةَ 8 هـ -
فَتْحُ فَارِسَ 16 هـ - غَزْوَةُ أُحُدَ 3 هـ .



التمرين 12 :

عندما وصل الفاتحون إلى شمال أعطوا أهمية كبيرة للعمارة الإسلاميّة وتجلّى ذلك في مظهرين اثنين ماهما ؟

اذكّرهما وفيما تمثل كل مظهر؟

◀ **المظهر الديني** : **ببناء المساجد**

◀ **المظهر السياسي** : **ببناء المدن**

التمرين 13 : أكمل الفراغات بما يُناسب :

- تمّ فتح مصر سنة **21** هجري

- تأسست مدينة القيروان سنة **50** هجري

- تأسست مدينة تيهرت سنة **144** هجري

- بُني أول مسجد في الجزائر سنة **59** هجري

التمرين 14 : اربط كل مدينة بتاريخ تأسيسها :

1007 م	اسدراتن
936 م	الناصرية
1068 م	قلعة بني حمّاد
909 م	آشير