



تقييم مكتسبات التلاميذ بداية السنة الدراسية



رياضيات

الاسم و اللقب:

1) أحسب.

$$\begin{array}{r|l} 526 & 4 \\ \hline & \end{array}$$

$$\begin{array}{r} \times 567 \\ 75 \\ \hline \end{array}$$

$$\begin{array}{r} 90274 \\ - 35865 \\ \hline \end{array}$$

--	--	--

مع 2

2) أعبّر عن كل قيس بالوحدة المطلوبة.

13 دكل و 2 ل =


2 هل و 3 دكل =

3 هل و 5 ل =


--	--	--

مع 3

ب- أتم رسم المربع أ ب ج د



3) أ- أتم رسم المستطيل أ ب ج د



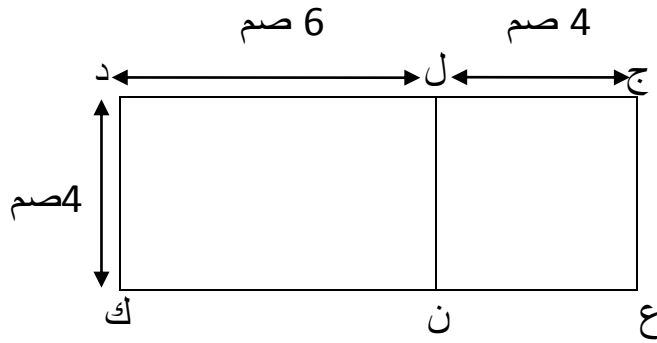
--	--

مع 4

--	--

مع 5

ج- أحسب قيس محيط الشكل ج د ع ك



.....

.....

--

مع 4

