

أتذكر

العشرات	الوحدات
2	5
عشرون	خمسة وحدات



استعمل التجميع بال عشرات
لعد كميات.




أطبق



1 أكتب عدد الأزهار في الجدول.

عشرات	وحدات
.....

2 أكتب العدد المناسب في كل خانة.



3 أكتب كل عدد على شكل مجموع كما في المثال.

$$64 = \dots\dots\dots$$

$$34 = 10 + 10 + 10 + 3$$

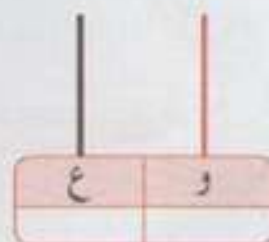
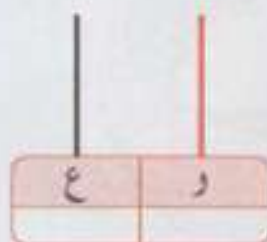
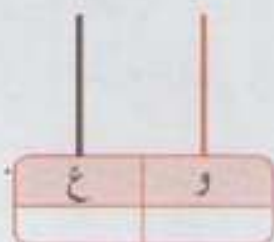
$$52 = \dots\dots\dots$$

$$46 = 10 + \dots + \dots + \dots + \dots$$

$$70 = \dots\dots\dots$$

$$28 = \dots\dots\dots$$

4 أكمل كل مساواة ثم أرسم الأقراص على كل عداة.



$$10 + 10 + 10 + 10 + 8 = \dots + \dots$$

$$10 + 10 + 10 + 3 = \dots + \dots$$

$$10 + 10 + 5 = \dots + \dots$$

9 - التجميع بالعشرات

العشرات	الوحدات
2	3

1

36

19

40

33

2

$$64 = 10 + 10 + 10 + 10 + 10 + 10 + 4$$


3

$$46 = 10 + 10 + 10 + 10 + 6$$

$$52 = 10 + 10 + 10 + 10 + 10 + 2$$

$$28 = 10 + 10 + 8$$

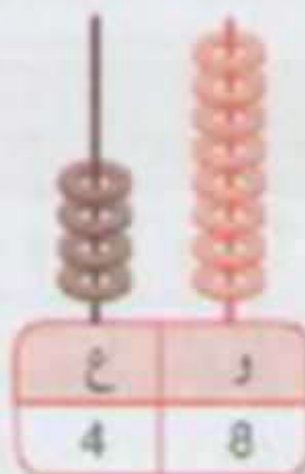
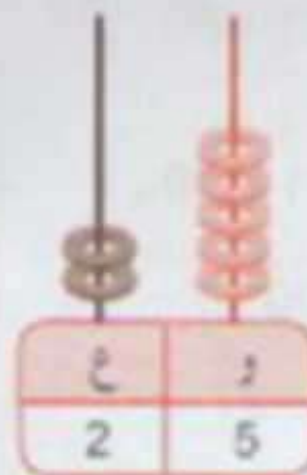
$$70 = 10 + 10 + 10 + 10 + 10 + 10 + 10$$



$$10 + 10 + 10 + 3 = 30 + 3$$

$$10 + 10 + 5 = 20 + 5$$

4



$$10 + 10 + 10 + 10 + 8 = 40 + 8$$