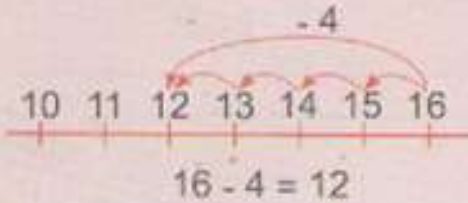
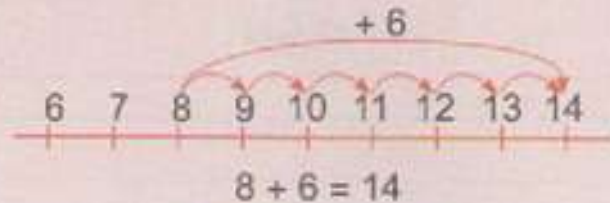


أتذكر

أحسب الفرق أو الفارق بين عددين باستخدام العد بالتقدم أو العد بالتأخر.




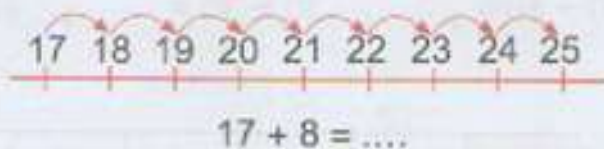
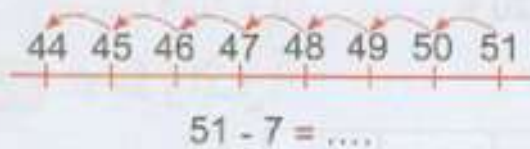
العد بالتأخر



العد بالتقدم

أطبق

1 الأخط وأكمل.



2 - أعد خانات الشريط.

- ألون 12 خانة منه.

- ما هو عدد الخانات غير الملونة ؟

3 الأخط وأكمل.

+4	7	9	11	13	15	19

4 الأخط وأكمل.

-5	34	28	43	17	49	54

5 في بداية لعبة الكريات كان عند رضا 17 كرية و عند

سمير 14 كرية. و عند نهاية اللعبة، عد رضا كرياتة

فوجد 13 كرية فقط.

- احسب عدد الكريات التي تنقصه.

- كم كرية صارت عند سمير ؟



13 - الفرق - الفارق

$$51 - 7 = 44$$

$$17 + 8 = 25$$

1

2



- عدد خنات الشريط هو 17 .

- عدد الخانات الملونة هو 12 .

- عدد الخانات غير الملونة هو 5 .

3

+4	7	9	11	13	15	19
	11	13	15	17	19	23

4

-5	34	28	43	17	49	54
	29	23	38	12	44	49

5

خبر رضا 4 كرتيات ، $17 - 13 = 4$

صار عند رضا 18 كرتية ، $14 + 4 = 18$