
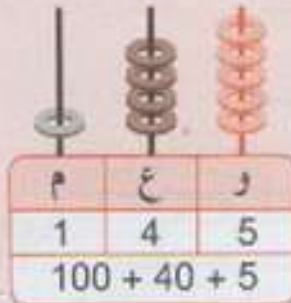


أتذكر


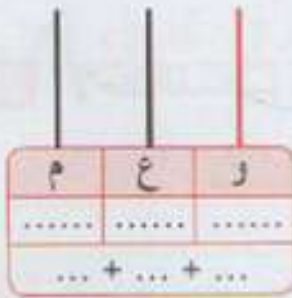
استبدل عشر وحدات بعشرة واحدة و عشر عشرات بمائة واحدة.

استعمل عذّادة لكتابة عدد : وحدات ، عشرات ، مئات .



أطبق

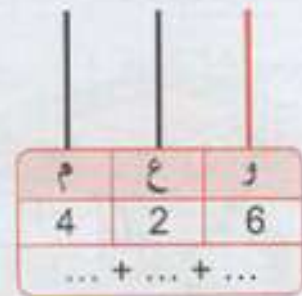
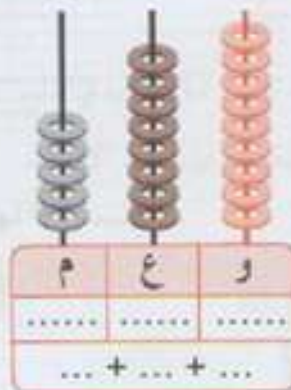
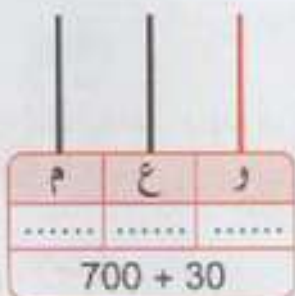
1 أعدّ الخانات و أكمل العذّادة.



2 الأخط و أكمل الجدول.

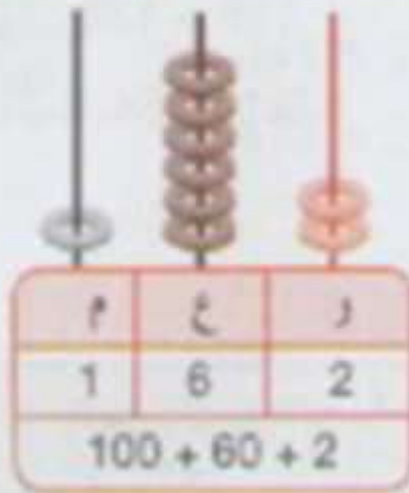
374	$300 + 70 + 4$	3 مئات و 7 عشرات و 4 وحدات
..... + +	7 مئات و 5 عشرات و 9 وحدات
.....	$600 + 60 + 3$
847 + +

3 أكمل.



الحساب

15 - التجميع بالعشرات و المئات



2

759	$700 + 50 + 9$	7 مئات و 5 عشرات و 9 وحدات
663	$600 + 60 + 3$	6 مئات و 6 عشرات و 3 وحدات
847	$800 + 40 + 7$	8 مئات و 4 عشرات و 7 وحدات

