
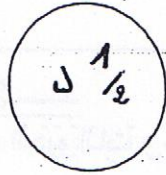


الحساب الذهني:

1- أبحثُ عَنْ قِيَمَةِ الْقِطْعَةِ الْمَجْهُولَةِ لِأَسْتَطِيعَ شِرَاءَ وَرْدَةٍ مُعْطَرَةٍ بِ 700 مي.



2- لَعِبَ رَامِي عَلَى الْحَاسُوبِ فَسَجَّلَ 279 نَقْطَةً.

- سَجَلَتْ سَلْمَى عَدَدًا مِنْ النِّقَاطِ تَقُلُّ عَنْهُ بِنُقْطَةٍ وَاحِدَةٍ.

- سَجَلَّ أَحْمَدُ عَدَدًا مِنْ النِّقَاطِ تَفُوقُهُ بِنُقْطَةٍ وَاحِدَةٍ.

* أَكْمِلْ كِتَابَةَ الْعَدَدِ السَّابِقِ وَ الْعَدَدِ الْوَالِدِ.

0,5


.....	279
-------	-----	-------

أَحْمَدُ

رَامِي

سَلْمَى

3- إِشْتَرَيْتُ:



300 مي



500 مي

سَادَفَعُ لِلتَّاجِرِ..... مي.


4- يَمْلِكُ سَلِيمٌ 800 مي - إِشْتَرَى دُوَامَةً بِ 400 مي

* أَحْسَبُ الْمَبْلَغَ الْمُتَبَقِيَ فِي جَيْبِهِ.

..... مي

1
العدد

04



السند ع 7 دد :

أما النمر فكان نائماً في قفص، هذا شكله :

التعليمة ع 1 دد : اكتب داخل الشكل عدد أضلاعه.

4 -

السند ع 8 دد

بعد مشاهدة هذه الحيوانات وهي تاكل، أحسنت بالجوع والعطش، فتذكرت أنه مازال بجيبي

485 مي، فاشتريت منها عصيراً بـ 350 مي،

وآرت أفتناء علبه بسكويت ثمنها 315 مي، بما يبقى لي من نفود.

التعليمة ع 2 دد : احسب بالمي المبلغ الذي بقي لي بعد شراء العصير.

.....
- = 350 - 485
=	

2 -

التعليمة ع 3 دد : أضغ علامة (x) أمام سؤال آخر يناسب الوضعية :

- ما هو ثمن علبه العصير؟

- هل يمكن لي شراء علبه البسكويت بعد شراء العصير؟

- كم ثمن علبه البسكويت؟

5 -

التعليمة ع 4 دد : اجيب عن السؤال الذي اخترته، و اعلل إجابتي :

.....

.....

.....

.....

5 .

جدول اسناد الأعداد

الحساب الذهني

عابير/المستويات	مع 1	مع 2	مع 3	مع 4	مع 5	المجموع
---	0	0	0	0	0	0
+--	1	1 1/2	1	1	1.5	1.5
++-	2	2	2	2	2	2