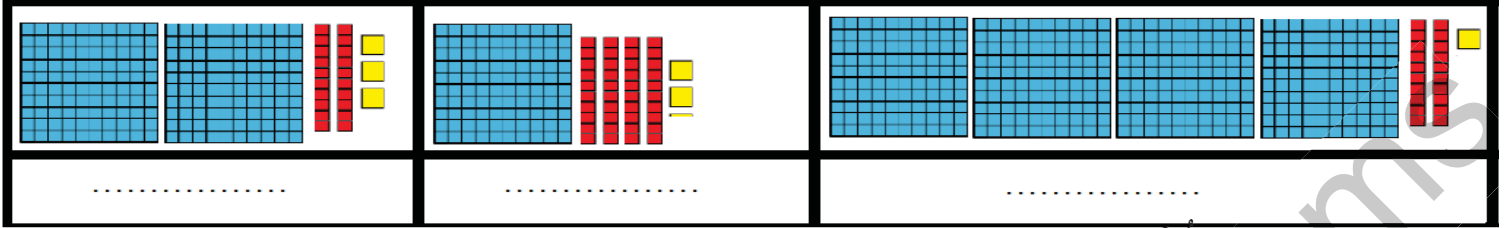


النشاط الاول : اكتب العدد المناسب : 1.5



النشاط الثاني : 1- أقرن بين العددين بوضع العلامة : &lt; &gt; 1.....

987	.	921	123	.	246
-----	---	-----	-----	---	-----

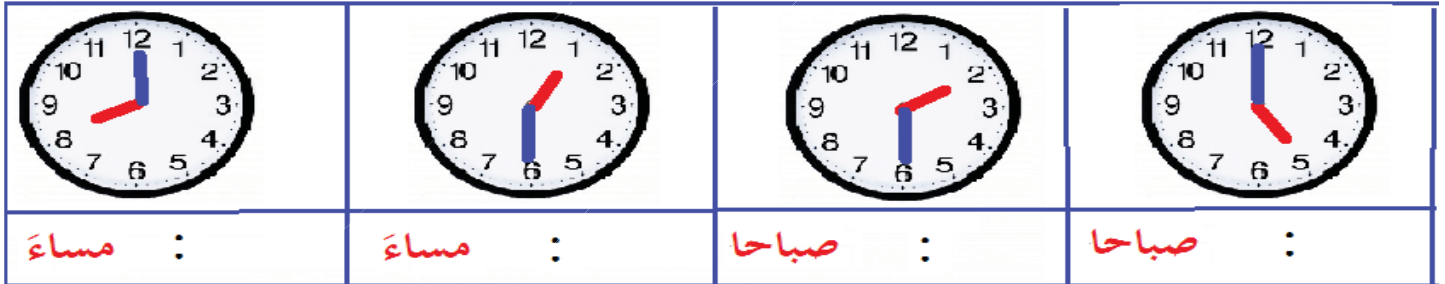
2- ارتب الأعداد من الأصغر إلى الأكبر: 987 - 123 - 365 - 1.....

.....	.....	.....
-------	-------	-------

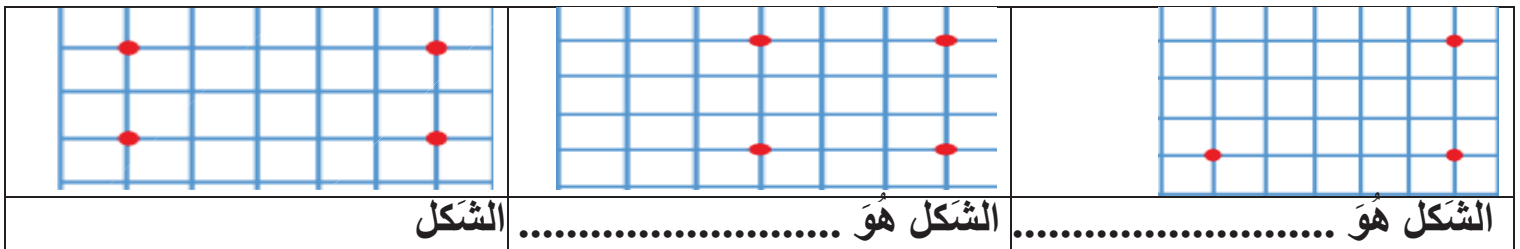
3- اكتب بالحروف الأعداد التالية : 1.....

.....	987	.....	123
-------	-----	-------	-----

النشاط الثالث : اكتب التوقيت : 1.....



النشاط الرابع : أصل بين النقاط وأسمي الشكل : 1.5.....



الوضعية الإدماجية : على كراس الاختبار \* الحل - العمليات - الاجوبة \* 3.....

يملك خالد في حصالته 245 دج و تملك سلمى في حصالتها 123 دج

1- أعطت سلمى لخالد 123 دج ووضعتها في خزانته

- كم يملك خالد من النقود في حصالته؟

2- أخرج خالد من حصالته 65 دج ليشتري قصة ثمنها 53 دج

- كم يرجع البائع لخالد من النقود؟