

المستوى الثانية ابتدائي () مارس: 2017

اختبار الفصل الثاني في مادة الرياضيات

التمرين الأول: (1.5ن)

أكمل الشريط العددي لأتحصّل على متتالية أعداد.

.	270
---	-----	---	---	---	---	---

التمرين الثاني: (2ن)

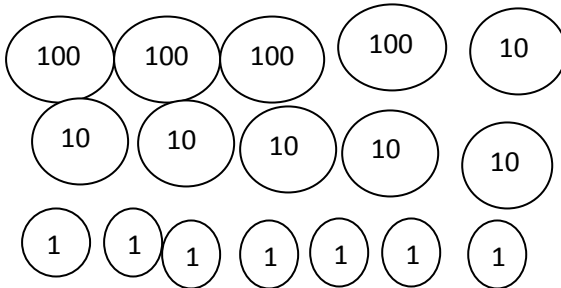
اكتب الأعداد بالحروف أو بالأرقام:

286 : أربعمائة و خمسة :

709 : ستمائة و واحد و ثلاثون :

التمرين الثالث: (2ن)

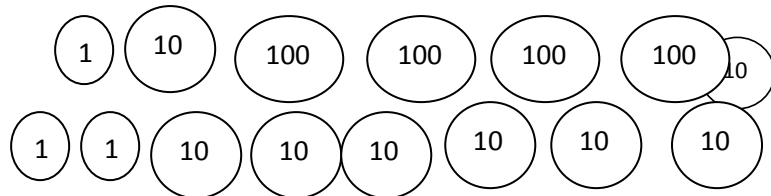

أحيط المبلغ اللازم لشراء كل لعبة.



246 ديناراً



460
ديناراً



التمرين الرابع: (1.5ن)

أحوّل الأطوال إلى الوحدة المطلوبة

1 متر و 85 سم =سم

2 متر =سم

1 متر و 50 سم =سم

الوضعية الإدماجية:

يملك مكتبيّ 194 كتابا باع في الشهر الأوّل 43 كتابا ، و باع في الشهر الثاني 60 كتابا

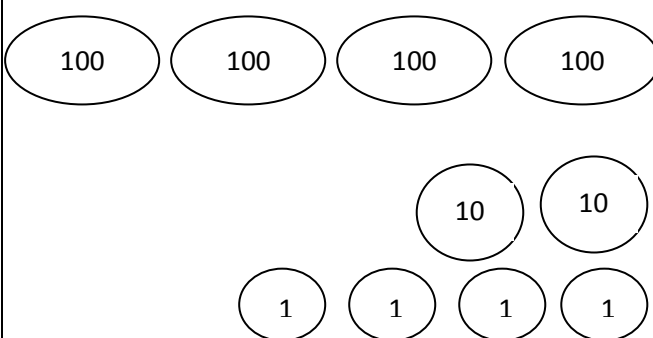
فحصّل على 625 دينارا .

1/ كم كتابا باع المكتبيّ في الشهرين ؟

2/ كم كتابا بقي عنده ؟

3/ متّ المبلغ الذي تحصّل عليه بالقطع النقديّة.

تصحيح اختبار الثانية ابتدائي

التنقيط	التصحيح	التمرين
0.25*6	269 270 271 272 273 274 275	التمرين 1 1.5
0.5 0.5 0.5 0.5	286: مئتان و ستة و ثمانون . 709: سبعمائة و تسعة أربعمائة و خمسة : 405 ستمائة و واحد و ثلاثون : 631	التمرين 2 2
01 ن1	يحيط قطعتين ذات 100 دج و 4 قطع ذات 10 دج و 6 قطع ذات 01 دج . يحيط 4 قطع ذات 100 دج و 6 قطع ذات 10 دج	التمرين 3 02
0.5 0.5 0.5	1 متر و 85 سم = 185 سم . 2 متر = 200 سم . 1 متر و 50 سم = 150 سم	التمرين 4 1.5
0.25 0.5 0.25 0.25 0.5 0.25 01	باع المكتبي : 103 كتابا 43+60=103 العملية العمودية : بقي عنده : 91 كتابا 194-103=91 العملية العمودية : التمثيل : 	الوضعية 03

