


4 جَمَعَ التَّلَامِيذُ مَبْلَغَ مَالِيَّةٍ لِصِنَاعَةِ أَفْنِجَةٍ لِعَرَضٍ



مَسْرُوحِيَّةٍ  
أَذْخَرَ سَمِيرٌ

أَحْسَبُ هَذَا الْمَبْلَغَ  مِي

شَرَى سَمِيرٌ مِلْفَاتٍ مِنَ الْوَرَقِ الْمَقْوَى بِ 570 مِي

أَمْتَلِ الْمَبْلَغَ بِأَقْلَ عَدَدٍ مُمَكِّنٍ مِنَ الْقِطْعِ النَّقْدِيَّةِ




أَبْحَثْ عَنِ الْمَبْلَغِ الْمُتَبَقِّي لِسَمِيرٍ

أُرْتَبِ أَعْدَادَ الْعَمَلِيَّةِ تَصَاعُدِيًّا




2 قَصِّ التَّلَامِيذُ الْمِلْفَاتِ حَسَبِ الْأَشْكَالِ التَّالِيَةِ



التون كل فِئاع له 3 أضلاع  
 أضع علامة (x) تحت الفِئاع الذي له 6 أضلاع  
 أكمل رسم الفِئاع التّاقِص ليُصبح ذا 7 أضلاع

3 سحبت سلمي من خزانة 894 مي:



أرسم القطع النقدية الناقصة

اشترت سلمي قارورة ليّيق بـ 25.7 مي وأوراق مملوثة

بـ 48.6 مي كم صرفت؟

كم بقي لسلمي؟

سُفرت سلمي

بقي لسلمي:

قال بإمكانها شراء بمحاة بـ 195 مي؟ أعلّل جوابي

4 كان بحافظة نقود رأمي 775 مي شري أريطة

ليشد الأقيعة بـ 235 مي وصلّالاً ثمنه يفوق ثمن

الأريطة بـ 165 مي

ما هو ثمن الصلّال؟ ما هو ثمن المشتريات؟ كم بقي لرامي؟

مكتبة الخدمات

إمام جامع التوبة بالمنستير

(العملية المكتبة الخدمات)

أكتب أكبر عدد

مد  
ل

امام جامع التوبة بالمنستير

1

(العملية الثانية)

أكتب أصغر عدد

### المسألة:

عدد التلاميذ بالمدرسة 589 حضر منهم يوم  
عرض المسرحية \* 196 تلميذا  
\* 274 تلميذة

أضع علامة (X) أمام التعليلة المناسبة:



\* ما هو عدد الأقسام؟

\* ما هو عدد الأمتحان؟

\* ما هو عدد التلاميذ الذين حضروا العرض؟

\* ما هو عدد المعلمين؟

\* ما هو عدد التلاميذ الذين تغيبوا عن العرض؟


مد  
ل

1

### أحل المسألة:

مد  
ل  
ل

1

15