

المستوى : الثانية ابتدائي (ماي 2016

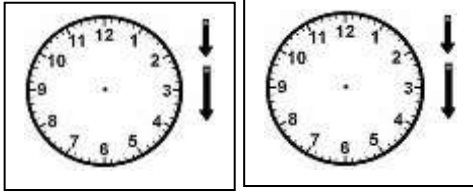
اختبار الرياضيات للفصل الثالث

التمرين الأول: أنجز العمليات التالية :

$$\begin{array}{r} 385 \\ + \quad .2 \\ \hline = 9.7 \end{array} \quad \begin{array}{r} 376 \\ + \quad \dots \\ \hline = 590 \end{array} \quad \begin{array}{r} 123 \\ - 115 \\ \hline = \end{array} \quad \begin{array}{r} 345 \\ + 103 \\ \hline = 388 \end{array}$$

3

التمرين الثاني: تبدأ حصّة الرياضة على الساعة 10 صباحاً ، وتنتهي بعد 45 دقيقة .



أرسم زمن بداية و نهاية الحصّة .

في هذه الحصّة أجرت المعلّمة سباقاً للعدو ، أنظر الجدول :

العداء	سامي	أحمد	منير	رضا
مدّة عدوه	50 د	30 د	45 د	29 د


- رتّب العدّائين من الأسرع إلى الأبطأ.

1-.....-2.....-3.....-4.....

- أبطأ عدّاء هو : / أسرع عدّاء هو :


التّمرين الثالث:

ذهبت مع أبيك عند الفاكهاني لشراء بعض الفواكه لزيارة جارك المريض ، فوزن الفواكه المختارة من طرف أبيك.




ما هو وزن الموز؟

.....



ما هو وزن البرتقال؟

.....



ما هو وزن التفاح؟

.....

أرتب كتل الفواكه من الأخف إلى الأثقل

1-.....-2.....-3.....

أعطى أبوك للفاكهاني ورقة نقدية بقيمة 500 ديناراً، فقال الفاكهاني ينقصك 250 ديناراً.

ما هو ثمن كلّ الفواكه؟

مّثل المبلغ بالقطع النقدية؟

بالتوفيق

تصحيح اختبار الفصل الثالث في الرياضيات

التمرين الأول: أنجز العمليات التالية: (3 ن).... (4×0.75)

$$\begin{array}{r} 385 \\ + \quad .2 \\ \hline = 9.7 \end{array} \quad \begin{array}{r} 376 \\ + \quad .4 \\ \hline = 590 \end{array} \quad \begin{array}{r} 123 \\ - 115 \\ \hline = 008 \end{array} \quad \begin{array}{r} 345 \\ + 103 \\ + 12 \\ \hline = 460 \end{array}$$

التمرين الثاني: (3 ن) تبدأ حصّة الرياضة على الساعة 10 صباحا ، وتنتهي

بعد 45 دقيقة .

أرسم زمن بداية و نهاية الحصّة. (2×0.25)



النهاية



البداية

في هذه الحصّة أجرت المعلّمة سباقا للعدو ، أنظر الجدول :

العدّاء	سامي	أحمد	منير	رضا
مدّة عدوه	50 د	30 د	45 د	29 د

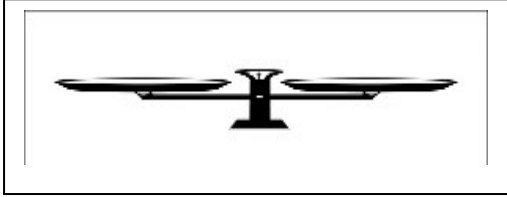
- رتّب العدّائين من الأسرع إلى الأبطأ. (4×0.5)

1-.....رضا.....2-.....أحمد.....3-.....منير.....4-.....سامي.....

– أبطأ عدّاء هو: سامي / – أسرع عدّاء هو: رضا. (2×0.25)

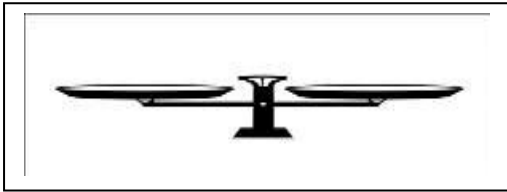
المشكلة : (4 ن)

ذهبت مع أبيك عند الفاكهاني لشراء بعض الفواكه لزيارة جارك المريض ،
فوزن الفواكه المختارة من طرف أبيك.



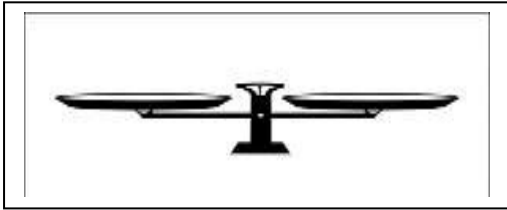
ما هو وزن الموز؟ (0.5)

....وزن الموز هو : 900 غ.....



ما هو وزن البرتقال؟ (0.5)

....وزن البرتقال هو : 600 غ.....



ما هو وزن التفاح؟ (0.5)

....وزن التفاح هو : 720 غ.....

أرتّب كتل الفواكه من الأخفّ إلى الأثقل

(3×0.25)

1-.....البرتقال.....2-.....التفاح.....3-.....الموز.....

أعطى أبوك للفاكهاني ورقة نقدية بقيمة 500 ديناراً، فقال الفاكهاني ينقصك 250

ما هو ثمن كلّ الفواكه؟ ($2 \times 0.25 + 0.5$)

مثّل المبلغ بالقطع النقدية؟ (0.75)

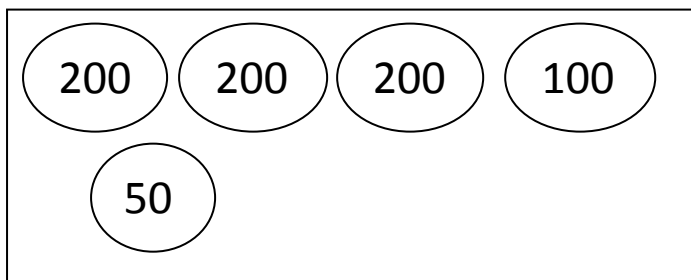
الحل

الاجوبة

$$500 + 250 = 750$$

العمليات

ثمن كل الفواكه هو : 750 د.ج.



$$\begin{array}{r} 500 \\ + 250 \\ \hline = 750 \end{array}$$