


السنة الثانية	اختبار الثلاثي الأول ديسمبر 2011 المادة: رياضيات	المدرسة الابتدائية الخاصة نور المعارف
الاسم و اللقب:		

السند 1: يَوْمَ الْأَحَادِ نَهَبَ أَحْمَدُ إِلَى ضَيْقَةَ خَدَّهُ
سَاعَةً أَحْمَدُ خَدَّهُ فِي الْعِنَايَةِ بِالْعَيَّوَانَةِ
وَجَبَنِي الثَّمَارِ

التعليمة 1: اجزئ هذه المجموعة حسب خاصية
الآنطها

م 1
L



قطب القمائل الخوخ فتة صلاو اعلى 25 كغ من
العجم الصغير و 36 كغ من العجم الكبير
التعليمة 2: احسب كتلة الخوخ في الجملة

م 2 ب
L

التعليمة 3: اكتب أسماء العائلات تصاعدياً

م 2 أ
L

كَمَا جَاءَهُ وَالْمِشْمِشُ فَتَنَّمَّ لَوْ أَعْلَى كِمَيْتَةً وَتَنَّمَّ
كِمَيْتَةَ الْعَوَجِ بِ 23 كغ

مد 1
ل
مدجب
ل

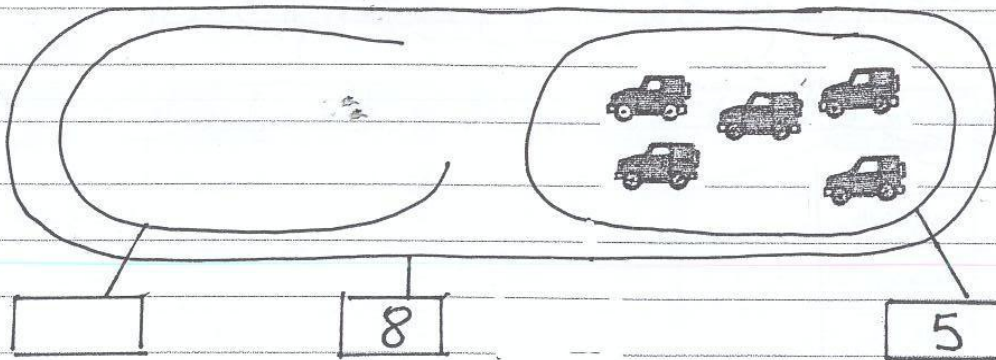
التعليمة 1.4 أحسب كثرة المشمش

التعليمة 1.5 أرتب أعداد القملية تدار ليًا

مدب
ل

السند 2: أحسب أحمد بالثعب وقد خل غرقتة
وتشغل الحاسوب ولعب لعت يساق السيارات
والتراجات

التعليمة 1.2 أوسم مقبرة جده وفي السيارات في
مقبرة وفي اللعب المشتقة له في السباق



مد 1
ل
X

السند 3: في الأثناء انشفت الحدة باعداد كالأول
الطعام للغة ال قومت 15 ثمنا كبير 14
ثمنا كبير
التعليمة 1.3 أحسب عدد المثنون في الجملة

مد 1

ب

التعليمية 2. 3. أَرْتَبِ أَعْدَادَ الْعَقَلِيَّةِ

مد 2


كَمَا وَفَعَتْ 10 كُؤُوسٍ
التعليمية 2. 3. أَحْسِبْ أَعْدَادَ الْأَوَانِي فِي الْجُمْلَةِ

مد 3

ب

حَانَ وَقْتُ الْفَدَاءِ فَتَخَلَّقْ أَفْرَادَ الْعَائِلَةِ حَوْلَ
الْمَائِدَةِ

التعليمية 3. 3. أَتَأْمَلُ الرَّشْمِيَّ عَلَيْهِ يَمِينٍ عَلَيْهِ تِسَارِ



أَقَامَ وَرَاءَ

مد 4

ب

الجدّة

أَحْمَدُ رِيَابِ

النَّافِذَةُ الْعَرِيَّةُ

السند 4: فِي الْمَسَاءِ قَدَّمَ الْجَدُّ الْأُمَمَةَ بِرَأْفَةٍ النَّاشِ
لِشَرَاءِ لَعْنَةٍ وَتَأْرَجِعُ لَهَا الْبَائِعُ الْوَطْرِعُ
الْتَقْدِيمَةُ الشَّالِيَّةُ

(2) (1) (5) (5) (20) (10) (20) (20)

التعليمية: 4.1 أَسْبَبُ الْأَعْرَافِ هَذَا الْمَبْلُغَ [] مِ

3 مع
L

شَرَى أَحْمَدُ كِتَابًا بِ 110 مِ
التعليمية: 4.2 أَحِيطُ بِتَطَوُّقِ الْقَطْعِ الَّتِي تُمَثِّلُ هَذَا الْمَبْلُغَ

3 مع
L

التعليمية: 4.3 أَسْبَبُ الْمَبْلُغِ الْمُتَبَقِّي [] مِ

3 مع
L

فَكَرَّ أَحْمَدُ فِي شِرَاءِ خَلْوَى تَمَنُّهَا 48 مِ بِمَا تَبَقَّى لَهُ

التعليمية: 4.4 هَلْ يُمَكِّنُهُ ذَلِكَ أَنْ تُشَطِّبَ الْأَفْتَةَ الْخَالِجَتَهُ وَلَا آذَانًا؟

5 مع
L

نَعَمْ [] لَا [] يُمْكِنُهُ لِأَنَّ

جدول اسناد الأعداد

معايير التميز		معايير الحد الأدنى					المعايير مستويات التملك
مع 5 ب	مع 5 أ	مع 4	مع 3	مع 2 ب	مع 2 أ	مع 1	
		0	0	0	0	0	انعدام التملك - - -
2	2	1	1	1	0.5	0.5	التملك دون الحد الأدنى + - -
		2	2	2	1	1	التملك الأدنى - + +
4		3	3	3	1.5	1.5	التملك الأقصى + + +