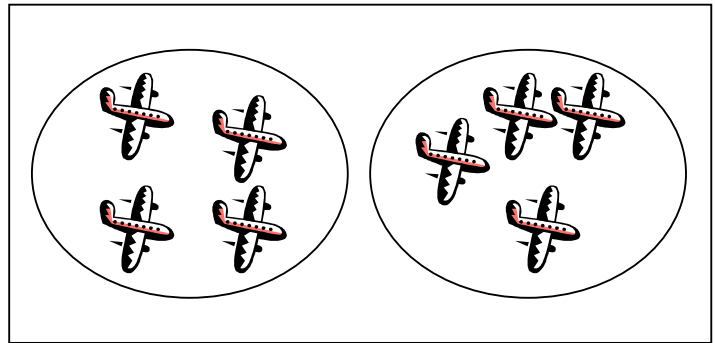



الضرب

صل كل مجموعه بالبطاقه المناسبه:


$$5 \times 2$$



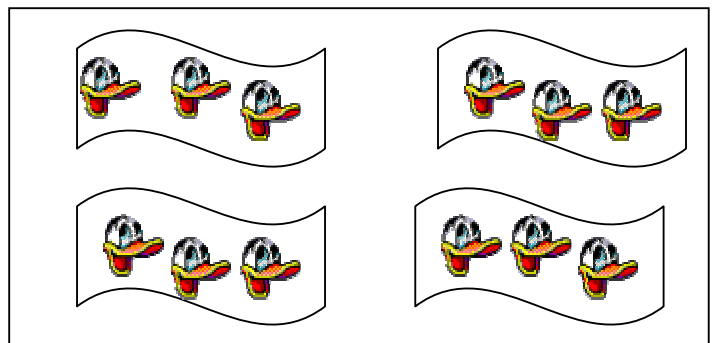
$$3 \times 4$$




$$12 \times 1$$



$$4 \times 2$$



هيا يا صغيري لنجد حلا لهذه  
المسائل معا





كم جناح لستة فراشات؟

كم مستطيل احمر اللون في عشرة اعلام؟




كم رجلا لخمسه جمال؟

ذهب حمد الى المكتبه و قام بشراء عشرة دفاتر, و ثمن كل واحد منها  
درهمان ما ثمن الدفاتر العشرة؟



كم رجلا لسبعة عنكب؟



$14 = \square \times 7$

$24 = \square \times 4$

$4 = \square \times 2$

$\square = 11 \times 4$

$\square = 7 \times 8$

$\square = 9 \times 2$

$\square = 2 \times 3$

$12 = 6 \times \square$

$20 = 4 \times \square$

$25 = 5 \times \square$

$70 = 10 \times \square$



$\boxed{5+5} \times 5 = 10 \times 5$

$5 \times 5 + 5 \times 5 =$

$\square + \square =$



$\square =$

$\boxed{4+3} \times 4 = 7 \times 4$

$4 \times 4 + 3 \times 4 =$

$\square + \square =$

$\square =$



$0 \times 2 \quad \square \quad 2 - 0$

$4 \times 4 \quad \square \quad 4 - 7$

$5 \times 2 \quad \square \quad 10 \times 1$

$10 \times 3 \quad \square \quad 2 \times 11$

$9 \times 4 \quad \square \quad 7 \times 5$

$6 + 6 \quad \square \quad 2 \times 6$

$7 \times 4 \quad \square \quad 3 \times 3$

$5 \times 8 \quad \square \quad 8 \times 8$



## اجيبي و لوني



$3 \times 1$	$4 \times 6$	$2 \times 10$	$8 \times 8$
$5 \times 0$	$10 \times 11$	$5 \times 2$	$9 \times 9$
$9 \times 4$	$6 \times 8$	$2 \times 2$	$2 \times 7$

لون التعبير الذي يعطي  
ناتجا اصغر من 40

ضع الرمز المناسب في الفراغ

$$35 = 5 \text{ ( ) } 7$$

$$16 = 8 \text{ ( ) } 8$$

$$99 = 11 \text{ ( ) } 9$$

$$5 = 9 \text{ ( ) } 4$$

$$12 = 6 \text{ ( ) } 6$$

$$12 = 4 \text{ ( ) } 3$$

ذهب عمر الى سوق الخضار و كان معه 30 درهم و


اشترى ما يلي:

تفاحتان بـ 3 دراهم

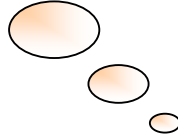

5 قطع من البرتقال بـ 10 درهم

10 قطع من الخيار بـ 5 دراهم


بكم درهم اشترى عمر و كم بقي معه؟



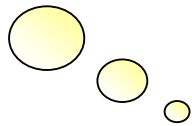

مرحبا يا اصدقائي  
هيا بنا نقفز فوق السحاب




$6 \times 4$



$2 \times 7$



$10 \times 3$



$5 \times 9$



5 دراهم



10 دراهم



2 درهم

---

ما ثمن 4 دمي؟

---

ما ثمن 6 أقلام؟

---

ما ثمن دمية و علبة الالوان؟

---

ما ثمن أربعة علب من الألوان و خمسة أقلام؟

---


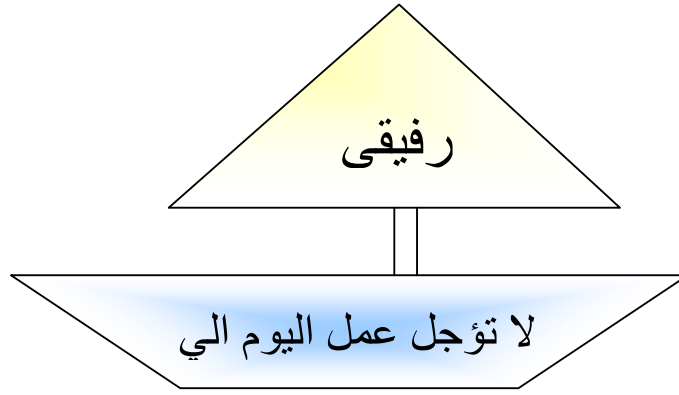
لديك 50 درهم هل يمكنك شراء:

- |                           |                          |     |                          |    |                          |
|---------------------------|--------------------------|-----|--------------------------|----|--------------------------|
| عشرة أقلام؟               | <input type="checkbox"/> | نعم | <input type="checkbox"/> | لا | <input type="checkbox"/> |
| 7 علب من الالوان؟         | <input type="checkbox"/> | نعم | <input type="checkbox"/> | لا | <input type="checkbox"/> |
| 3 دمي و 4 علب من الالوان؟ | <input type="checkbox"/> | نعم | <input type="checkbox"/> | لا | <input type="checkbox"/> |

اكمل الجدول التالي

9	8	7	6	5	4	3	2	1	×
									1
									2
									3
									4
									5
									6
									7
									8
									9





فكري.... ابحتي... تشاوري مع زميلتك ثم اجيبي...

نظمه مدرسه الرحبة رحله لجميع صفوف الثالث الابتدائي حيث يبلغ عدد الصفوف 5 و عدد التلاميذ في كل صف هو 25

ما هو مجموع الطلاب الذين ذهبوا الي الرحله؟

اقامت نوره حفلة في منزلها بمناسبة نجاحها في الصف الثاني الابتدائي بتفوق و قامت بطلب مجموعه من الاطعمه و هي كالتالي:



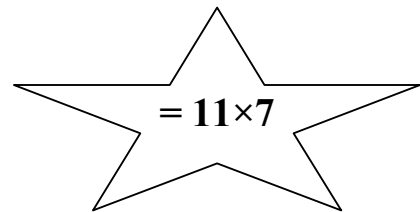
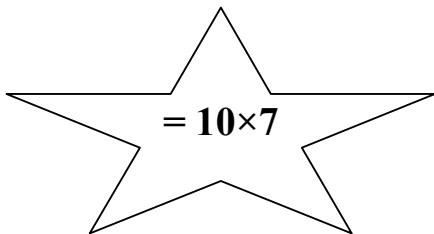

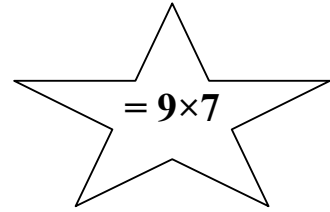
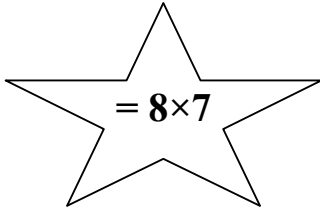
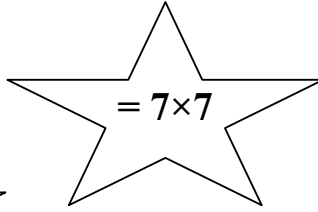
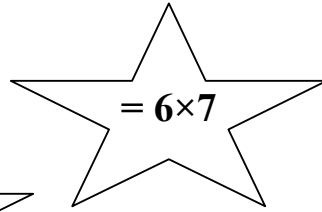
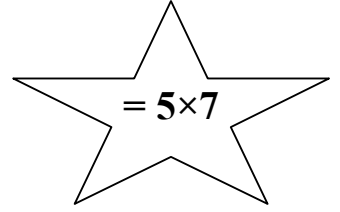
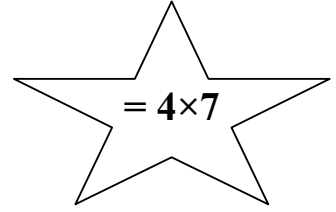
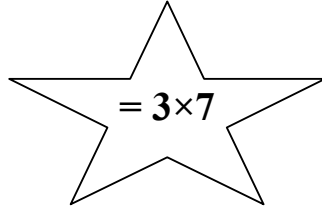
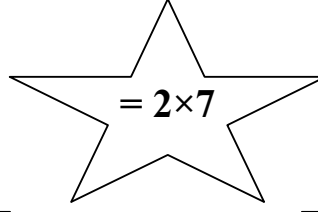
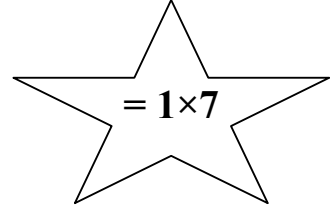

- ✓ كعكة كبيره بـ 100 درهم
- ✓ 3صناديق من عصير البرتقال بـ 80 درهم
- ✓ 4اكياس من البلونات بـ 20 درهم
- ✓ ملاعق و شوك بـ 10 دراهم

و تبقي لديها 50 درهم

1. ما هو المبلغ الذي كان مع نوره ؟


2. و ما هي تكلفه هذه الاشياء؟

هيا يا صغيراتي نجمع النجوم قبل شروق الشمس





هيا نلعب مع جدول الضرب لعبة الالوان


هيا لوني باللون الاحمر التعبير الذي يعطي ناتجا اصغر من 40  
و اللون الازرق للتعبير الذي يعطي ناتجا اكبر من 40



$5+15$	$6\times 7$	$3\times 1$	$8\times 3$
$20-64$	$3\times 9$	$60-90$	$6\times 9$
$2\times 8$	$4\times 5$	$15-52$	$7\times 7$
$50-72$	$9\times 5$	$27-80$	$2\times 9$







لعنكبوت واحد 8 ارجل

$$\bigcirc + \bigcirc = \text{لعنكبوتين}$$

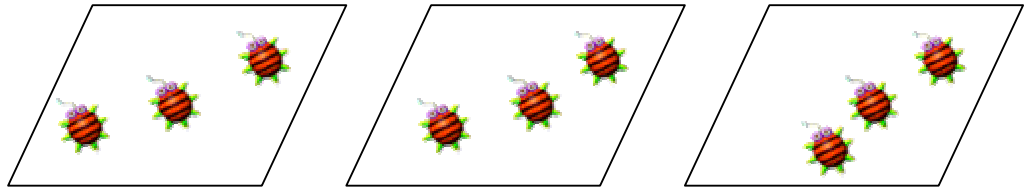
$$\times \bigcirc = \bigcirc$$

$$\bigcirc \times \bigcirc = \bigcirc + \bigcirc \text{ لثلاثة عنكب}$$


$$\bigcirc \times \bigcirc = \text{لاربعة عنكب}$$

$$\bigcirc \times \bigcirc = \text{لخمسة عنكب}$$

اوجدني ناتج ما يلي:



$$\begin{array}{l} \square + \square = \text{عدد العناصر} \\ \square + \square = \end{array}$$



اكملني:

$$9 = \text{☆} \times 3$$

$$\text{☆} = 5 \times 4$$

$$6 = 2 \times \text{☆}$$

$$3 \times \text{☆} = 2 \times 3$$

$$4 \times \text{☆} = 5 \times 4$$

$$12 = 3 \times \text{☆}$$

$$\begin{array}{r} 7 \\ 7 \end{array} \times \begin{array}{r} 4 \\ \text{☆} \end{array} = \begin{array}{r} \text{☆} \\ 16 \end{array}$$

$$\begin{array}{r} \text{☆} \\ 5 \end{array} \times 5 = 50$$

$$\begin{array}{r} 5 \\ \text{☆} \end{array} \times 10 = \text{☆}$$

$$3 \times 5 = \text{☆}$$

$$\text{☆} \times 6 =$$

	2
	8
	9
	6
	0

$$3 \times$$

3	1
	4
6	
	5
33	



ذهبت هناء إلى السوق و قامت ببيع 10 بطات و رجعت باثنتين

كم عدد البطات التي كانت مع هناء؟

إذا باعت هناء البطة الواحد ب 5 دراهم

ما هو المبلغ الذي حصلت عليه هناء؟



## فكر مع ديدوب

أراد ديدوب شراء هديه لوالديه  
بمناسبة العيد و ثمن الهدية الواحدة هو  
12 درهم



فكم درهما يحتاج ديدوب ليشتري  
الهديتين؟

اوجدني ناتج كل مما يلي:



+ 5

$$\times 2 = 7 \times 2$$

$$\square \times 2 + 5 \times 2 =$$

$$\square + \square =$$

$$\square =$$

---

$$\square + 5 \times 3 = 9 \times 3$$

$$\square \times 3 + \square \times 3 =$$

$$\square + \square =$$

$$\square =$$

---

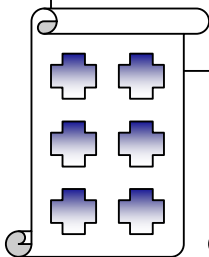
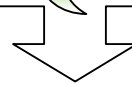
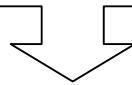
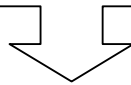
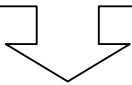
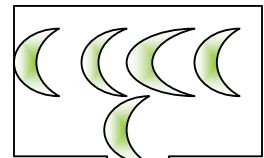


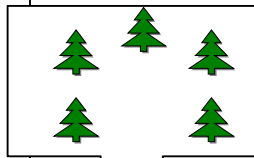

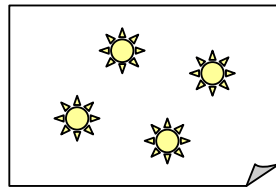

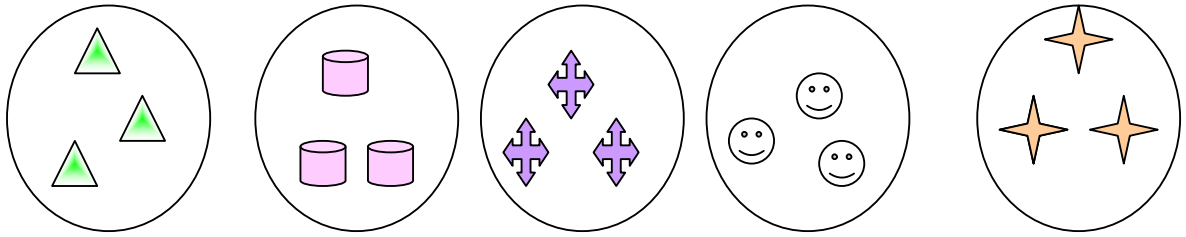
$$\square + 5 \times 5 = 8 \times 5$$

$$\square \times 5 + \square \times 5 =$$

$$\square + \square =$$

$$\square =$$

<http://examens.tn>



ج ح  
ب ن ع  
ق ص و  
ظ ذ

