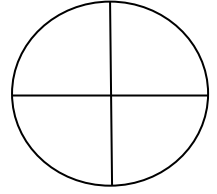
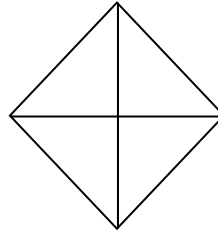

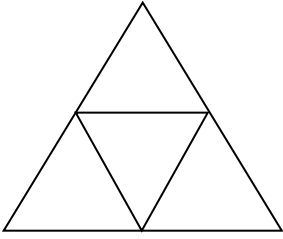


1. أضع الرمز المناسب (> ، < ، =) مكان النقط :

التمرين الأول : 02 ن

أ - ألون ربع كل شكل من الأشكال الآتية :



ب- أضع الرمز المناسب (> ، < ، =) مكان النقط :

$$99 \times 10 \dots\dots 990 -$$

$$78 \times 1 \dots\dots 7 \times 4 -$$

$$5 \times 4 \dots\dots 5 + 5 + 5 -$$

$$6 \times 2 \dots\dots 3 \times 4 -$$

التمرين الثاني : 2 ن

أ- صنّف الأعداد الآتية إلى أعداد فردية و أعداد زوجية : 215 - 2076 - 1543 - 7248 .

.....	أعداد فردية
.....	أعداد زوجية

ب- رتب كل الأعداد ترتيبا تصاعديا :

.....

التمرين الثالث: 1.25 ن

أتمم إلى 100 أو 1000 :

$$\dots + 80 = 100$$

$$\dots + 370 = 1000$$

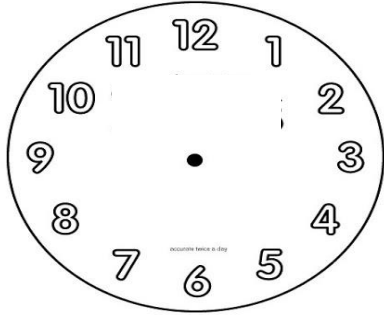
$$600 + \dots = 1000$$

$$75 + \dots = 100$$

$$900 + \dots = 1000$$

التمرين الرابع: 01 ن

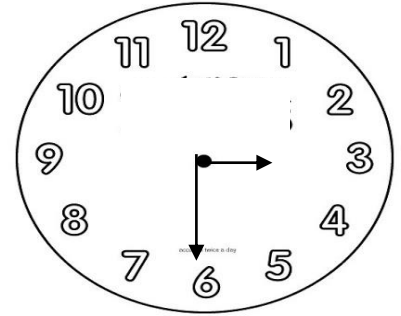
اقرأ التوقيت و ارسم عقارب الساعة :



صباحا : 12 : 15

ليلا : 00 : 15

اكتب التوقيت المناسب صباحا و مساء :



صباحا :

مساء :

المشكلة : 03.75 ن

يعطيك والدك كل يوم 65 دينارا ، و تعطيك أمك مبلغا يقل عنه بـ 15 دينارا .

- ما هو المبلغ الذي تعطيه لك أمك ؟

- ما هو المبلغ الذي صار عندك ؟

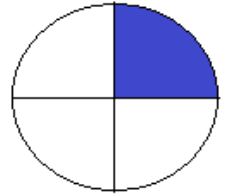
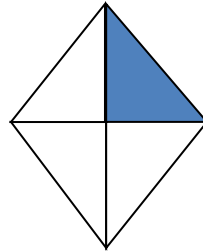

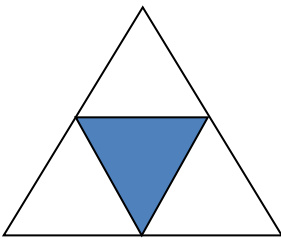
أما صديقك فكان يتحصل كل يوم على 120 دينارا .

- احسب المبلغ الذي يجمعه صديقك خلال أسبوع (7 أيام) .

الإصلاح

التمرين 1 : 02 ن

أ - ألون ربع كل شكل من الأشكال الآتية :



ب- أضع الرّمز المناسب (> ، < ، =) مكان النقط :

$$99 \times 10 = 990 -$$

$$78 \times 1 > 7 \times 4 -$$

$$5 \times 4 > 5+5+5 -$$

$$6 \times 2 = 3 \times 4 -$$

التمرين 2 : 02 ن

$$4 \times 0.25$$

$$1543$$

$$215$$

أعداد فردية

	7248	2076	أعداد زوجية
--	------	------	-------------

ت- أصنّف الأعداد الآتية إلى أعداد فردية و أعداد زوجية: 215 - 2076 - 1543 - 7248

ث- أرّتب كلّ الأعداد ترتيباً تصاعدياً :

$$4 \times 0.25 \quad 215 < 1543 < 2076 < 7248$$

□ التمرين 03 : 1.25 نقطة

أتمم إلى 100 أو 1000 :

$$20 + 80 = 100$$

$$600 + 400 = 1000$$

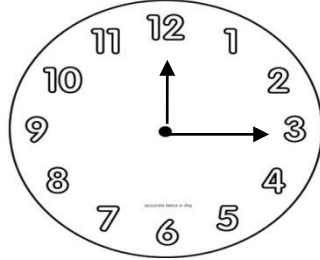
$$630 + 370 = 1000$$

$$75 + 25 = 100$$

$$900 + 100 = 1000$$

□ التمرين 04 : 01 ن

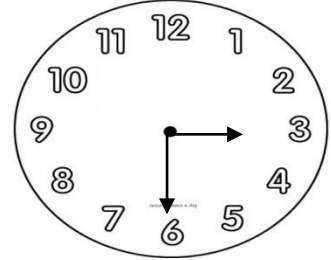
اقرأ التوقيت و ارسّم عقارب الساعة :



صباحاً : 12 : 15

ليلاً : 00 : 15

اكتب التوقيت المناسب صباحاً و مساءً :



صباحاً : 03 : 30

مساءً : 15 : 03

□ المشكّلة : 03.75 نقطة

$$65 - 15 = 50$$

المبلغ الذي تعطيه لي أمي هو 50 ديناراً

0.25

0.25

120

$\times 7$

840

0.5

65

-15

50

0.5

65

$+ 50$

115

0.5

$$65 + 15 = 115$$

0.25

المبلغ الذي أصبح عندي هو 115 ديناراً

0.25

0.25

$$120 \times 7 = 840$$

0.25

المبلغ الذي يجمعه صديقي هو 840 ديناراً

0.25

0.25

الصفحة 2/2