

سيف الدين عفاة

هدية
النقود المصورة

أكتشف وأفهم

القطع النقدية

لتلاميذ السنة الأولى من التعليم الأساسي

جديد



A. D. I. B.

سيف الدين عفانة

أَكْتَشِفُ وَأَفْهَمُ

الْقِطْعَةُ النَّقْدِيَّةُ

لِتَلَامِيذِ السَّنَةِ الْأُولَى مِنَ التَّعْلِيمِ الْأَسَاسِيِّ

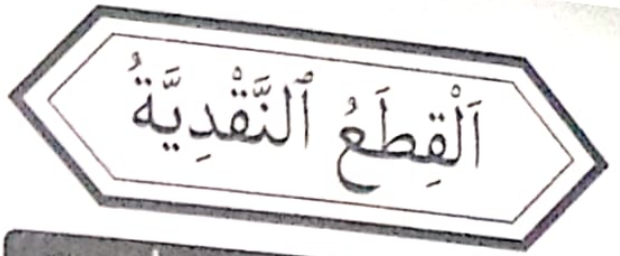
اسْمُ التِّلْمِيذِ وَلَقَبُهُ

.....

.....



A D I B



أَحْسِبِ الْمَبْلَغَ الْمَالِيَّ فِي كُلِّ مَرَّةٍ.




2... مي



4... مي





5... مي

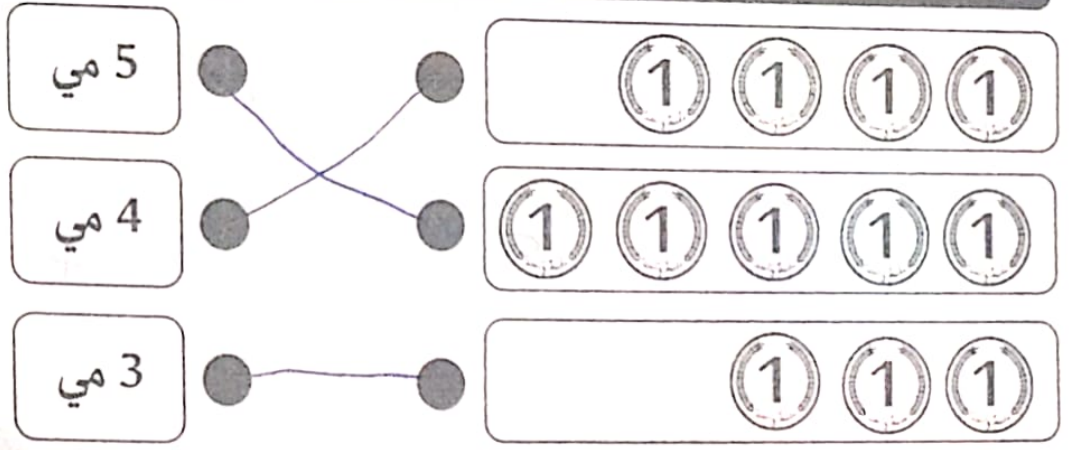


4... مي


أَشْطُبِ الْقِطْعَ النَّقْدِيَّةَ الزَّائِدَةَ.




أَرْبِطِ الْقِطْعَ النَّقْدِيَّةَ بِالْمَبْلَغِ الْمَالِيِّ الْمُنَاسِبِ.



أَكْمِلِ الْقِطْعَ النَّقْدِيَّةَ النَّاقِصَةَ.






أَكْمِلْ تَعْمِيرَ الْجَدْوَلِ بِمَا يَنْاسِبُ.


			الْقِطْعُ النَّقْدِيَّةُ
..... مي 3 مي 1 مي	الْمَبْلَغُ الْمَالِي

يَمْلِكُ نَجِيبُ




..... 5 مي

تَمْلِكُ ذِكْرَى



..... 6 مي

يَمْلِكُ صَفْوَانُ



..... 4 مي

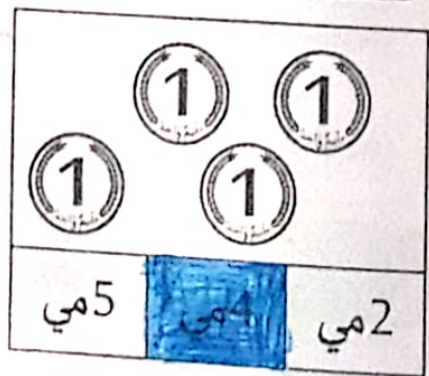
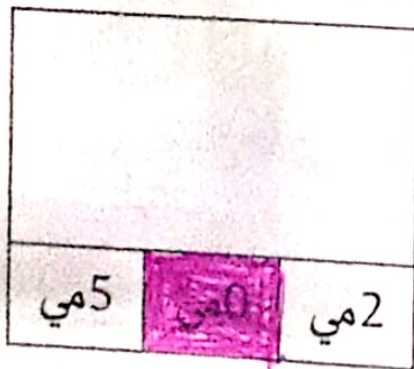
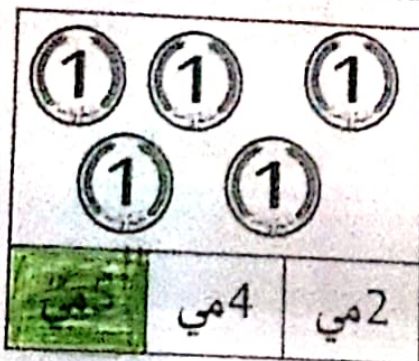


أَحْسِبُ الْمَبْلَغَ الْمَالِيَّ لِكُلِّ طِفْلِ.

أَرْتَبُ الْمَبَالِغَ تَصَاعُدِيًّا.

..... 4 مي > 5 مي > 6 مي


الْوَنُ الْخَانَةَ الْمُنَاسِبَةَ لِقِيَمَةِ الْقِطْعِ :



1 مليم

2 1
5

الْقِطْعُ النَّقْدِيَّةُ



وَضَعْتُ دَلَالَ فِي حَصَالَتِي بَعْضَ الْقِطْعِ النَّقْدِيَّةِ مِنْ فِئَةِ 1

أَسَاعِدُ دَلَالَ فِي حِسَابِ نَقُودِهَا وَأَكْتُبُ الْمِقْدَارَ الَّذِي وَجَدْتُهُ.

وَجَدْتُ دَلَالَ فِي حَصَالَتِي ... 8 ... مي

أَحْسِبُ

مي 6 = 1 + 1 + 1 + 1 + 1 + 1


مي 4 = 1 + 1 + 1 + 1

مي 5 = 1 + 1 + 1 + 1 + 1

مي 3 = 1 + 1 + 1


يَمْلِكُ رَبِيعٌ 3 مي
لِيَشْتَرِيَ حَلْوَى بِـ 7 مي يَحْتَاجُ رَبِيعٌ إِلَى 4 مي


أَمَثَلُ مَا يَحْتَاجُهُ رَبِيعٌ بِقِطْعٍ مِنْ فِئَةِ 1








أَمِّثِلْ الْمَبَالِغَ الْمَالِيَّةَ التَّالِيَةَ .


7 مِي = 

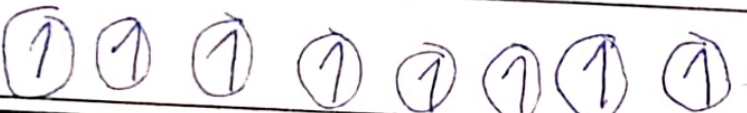
1 مِي = 

3 مِي = 


9 مِي = 

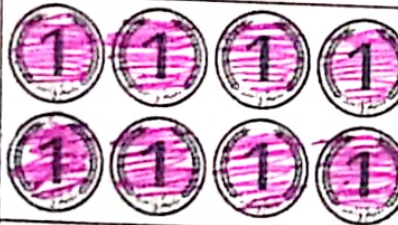
2 مِي = 

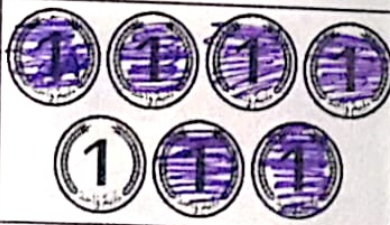
4 مِي = 


8 مِي = 


أَلَوْنُ الْقِطْعِ النَّقْدِيَّةِ لِأَحْصُلَ عَلَى الْمَبْلَغِ الْمَكْتُوبِ دَاخِلَ الْأَفْتَةِ.

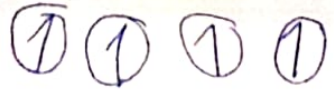

4 مِي


8 مِي


6 مِي

يَمْلِكُ حَاتِمٌ  =  ... مِي
يَحْتَاجُ مِي لِيُصْبِحَ لَهُ 9 مِي.

أَمِّثِلْ مَا يَحْتَاجُهُ حَاتِمٌ بِقِطْعٍ مِنْ فِئَةِ 



مِلِيَّان

2 1
5

الْقِطْعُ النَّقْدِيَّةُ

أَحْسِبُ الْمَبْلَغَ الْمَالِيَّ فِي كُلِّ مَرَّةٍ.




6 مي



6 مي





6 مي




6 مي


أَشْطِبُ الْقِطْعَ النَّقْدِيَّةَ الزَّائِدَةَ.



أَرْبِطُ الْقِطْعَ النَّقْدِيَّةَ بِالْمَبْلَغِ الْمَالِيِّ الْمُنَاسِبِ.



أَكْمِلُ الْقِطْعَ النَّقْدِيَّةَ النَّاقِصَةَ مُسْتَعْمِلًا فِئَةَ 2



مِلِيْمَانِ

2

1
2
5

الْقِطْعُ النَّقْدِيَّةُ

أَكْمِلْ تَعْمِيرَ الْجَدْوَلِ بِمَا يَنْسَبُ.

1 2 1	2 2	الْقِطْعُ النَّقْدِيَّةُ
4 مي	6 مي	المَبْلَغُ الْمَالِي

يَمْلِكُ أَسْرُ

2 2
2 2

8 مي

تَمْلِكُ سَمْرُ

2 1 2
1 2 1

9 مي

يَمْلِكُ سَامِي

2 1
1 2

6 مي

أَحْسِبُ الْمَبْلَغَ الْمَالِيَّ لِكُلِّ طِفْلِ.

أَرْتَبُ الْمَبَالِغَ تَنَازُلِيًّا.

9 مي < 8 مي < 6 مي

أَلَوْنُ الْخَانَةِ الْمُنَاسِبَةُ لِقِيَمَةِ الْقِطْعِ:

2 2 2
1 1 1

7 مي 8 مي 9 مي

2 2
1 2

6 مي 7 مي 5 مي

2 2 2
1 1

7 مي 9 مي 8 مي

مِلِيْمَانِ

2 1
5

الْقِطْعُ النَّقْدِيَّةُ

2

كَاهِنَةٌ فَتَاهٌ مَاهِرَةٌ وَتُحِبُّ الرِّيَاضَةَ دُونَ أَنْ تُهْمَلَ دِرَاسَتَهَا.
وَفِي يَوْمٍ وَجَدَتْ وَهِيَ تَلْعَبُ 6 قِطْعَ نَقْدِيَّةٍ مِنْ فِئَتَيْنِ مُخْتَلِفَتَيْنِ.



2 1 2 1 2 1

أَسَاعِدُ كَاهِنَةً فِي حِسَابِ مَا وَجَدَتْ.

وَجَدَتْ كَاهِنَةً مي

أَمِثِلُ مَا وَجَدْتُهُ بِقِطْعٍ مِنْ فِئَةٍ وَاحِدَةٍ.

1 1 1 1 1 1

أَحْسِبْ

مي = 1 + 1 + 1 + 2 + 2 + 2

مي = 2 + 2 + 1 + 1 + 1 + 1

مي = 1 + 1 + 1 + 1 + 1 + 2

تَمَلِكُ فِرْدَوْسُ 1 2 2 = 5 مي

أَعْطَتْهَا أُمُّهَا 2 2 فَأَصْبَحَ لَدَيْهَا مي

أَمِثِلُ مَا أَصْبَحَ لَدَيْهَا بِطَرِيقَتَيْنِ مُخْتَلِفَتَيْنِ.

1 1 1 1 5

2 2 5

القطع النقدية

مليمان

2

1
2
5

أمثل المبالغ المالية التالية بطرق مختلفة مستعيناً بالمثل.

1 1 1 2

5 مي

2 2 1

2 2

1 1 2 2

6 مي

2 2

1 1 2

4 مي

1 2

1 1 1

3 مي

2

1 1

2 مي

ألون القطع النقدية لأحصل على المبلغ المكتوب داخل الألفية.

2 2 2
2 2

4 مي

2 2 2
1 2 2

7 مي

2 2 2
2 2

8 مي


يملك زيد
يحتاج 3 مي ليصبح له 8 مي.
..... 5 مي = 2 2 1

أمثل ما يحتاجه زيد بقطع نقدية من فئتين مختلفتين.

1 2

الْقِطْعُ النَّقْدِيَّةُ

أَحْسِبُ الْمَبْلَغَ الْمَالِيَّ فِي كُلِّ مَرَّةٍ.



8 مي



8 مي



8 مي



8 مي

أَشْطِبُ الْقِطْعَ النَّقْدِيَّةَ الزَّائِدَةَ.



= 9 مي




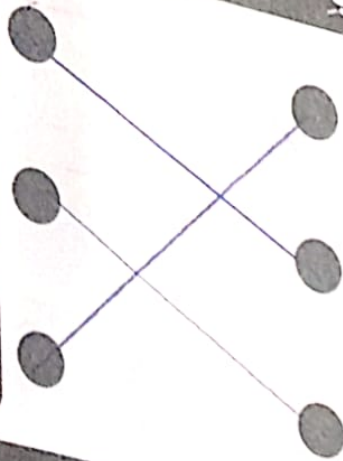
= 8 مي

أَرْبِطُ الْقِطْعَ النَّقْدِيَّةَ بِالْمَبْلَغِ الْمَالِيِّ الْمُنَاسِبِ.


8 مي

7 مي

9 مي



أَكْمِلُ الْقِطْعَ النَّقْدِيَّةَ النَّاقِصَةَ مُسْتَعْمِلًا قِطْعًا مِنْ فِئَةٍ وَاحِدَةٍ.



= 8 مي

5 مِلِيَمَاتٍ



الْقِطْعُ النَّقْدِيَّةُ

ألَوْنُ الْقِطْعِ النَّقْدِيَّةِ لِأَحْصَالِ عَلَى الْمَبْلَغِ الْمَكْتُوبِ دَاخِلِ الْآلِفَةِ.

10 مي

9 مي

12 مي

أَمِثِلُ الْمَبَالِغِ الْمَالِيَّةِ التَّالِيَةِ بِطُرُقٍ مُخْتَلِفَةٍ.

7 5 5	11 مي	4 10
2 1 1 1 1 1 1 1 1	10 مي	5 5
3 5 5	13 مي	3 10
2 5 5	12 مي	2 10
2 2 5	9 مي	2 2 5

تَمَلِكُ أَمِيرَةٌ (5 1 1 1) = 8 ... مي
تَحْتَاجُ مي لِیُصْبِحَ لَهَا 13 مي.

أَمِثِلُ مَا تَحْتَاجُهُ أَمِيرَةٌ بِطَرِيقَتَيْنِ.

1 1 2 1 1	2 2 1
-----------	-------

5 مَلِيمَاتٍ

5

2 1
5

الْقِطْعُ النَّقْدِيَّةُ



أَرَادَ يُوسُفُ زِرَاعَةَ نَبْتَةِ فُؤْلِ. وَلَكِنْ لِشِرَاءِ أَصِيصٍ
يَنْقُصُهُ 10 مَلِيمَاتٍ.

أَمِّثْ مَا يَنْقُصُ يُوسُفُ بِأَرْبَعَةِ قِطْعِ نَقْدِيَّةٍ.

1 2 2 5

أَحْسِبْ

10 = 5 + 5 + 1 مِي

10 = 2 + 2 + 2 + 2 + 1 + 1 مِي

10 = 5 + 1 + 1 + 1 + 1 + 1 مِي

10 = 2 + 2 + 2 + 2 + 1 + 1 مِي

10 = 5 + 1 + 1 + 1 + 1 + 1 مِي

يَمْلِكُ سَالِمٌ 12 مِي = 5 1 1 مِي

لِيَشْتَرِيَ كُجَّةً بِـ 12 مِي يَحْتَاجُ سَالِمٌ إِلَى 5 مِي

أَمِّثْ مَا يَحْتَاجُهُ سَالِمٌ بِقِطْعٍ مِنْ فِئْتَيْنِ مُخْتَلِفَتَيْنِ.

1 4 7 8 9

5 مَلِيَمَاتٍ




الْقِطْعُ النَّقْدِيَّةُ

اَكْمِلْ تَغْيِيرَ الْجَدْوَلِ بِمَا يُنَاسِبُ.


			الْقِطْعُ النَّقْدِيَّةُ
5 مي مي مي	الْمَبْلَغُ الْمَالِيُّ

يَمْلِكُ لُؤْيُ




..... مي

تَمْلِكُ بَيْتَةُ



..... مي

يَمْلِكُ خَالِدٌ



..... مي

أَحْسِبُ الْمَبْلَغَ الْمَالِيَّ لِكُلِّ طِفْلِ.

أَصْلِحُ الْخَطَأَ: تَمْلِكُ بَيْتَةُ أَكْثَرَ مِنْ لُؤْيِ.

تَمْلِكُ بَيْتَةُ مِنْ لُؤْيِ لِأَنَّ >

أَلَوْنُ الْخَانَةِ الْمُنَاسِبَةُ لِقِيَمَةِ الْقِطْعِ:

7 مي	10 مي	9 مي
------	-------	------

8 مي	7 مي	6 مي
------	------	------

7 مي	9 مي	10 مي
------	------	-------

10 مليمات



الْقِطْعُ النَّقْدِيَّةُ


أَحْسِبُ الْمَبْلَغَ الْمَالِيَّ فِي كُلِّ مَرَّةٍ.



10 مي



10 مي





18 مي



19 مي

أَشْطَبُ الْقِطْعَ النَّقْدِيَّةَ الزَّائِدَةَ.



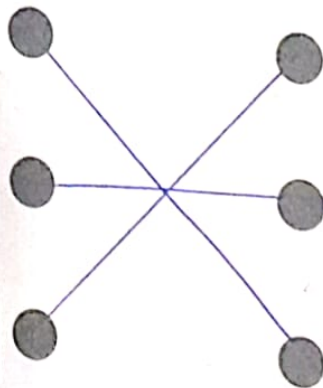


أَرْبِطُ الْقِطْعَ النَّقْدِيَّةَ بِالْمَبْلَغِ الْمَالِيِّ الْمُنَاسِبِ.


20 مي

18 مي

16 مي



أَكْمِلُ الْقِطْعَ النَّقْدِيَّةَ النَّاقِصَةَ مُسْتَعْمِلًا قِطْعًا مِنْ فِئَتَيْنِ.



10 مليمات

القطع النقدية

تملك سيرين




19 مي

تملك مروى



18 مي

يملك أحمد



14 مي

أحسب المبلغ المالي لكل طفل ثم أرتب ما تحصلت عليه تنازلياً.

19 مي < 18 مي < 14 مي

ألون الخانة المناسبة لقيمة القطع.

17 مي	18 مي	19 مي

11 مي	10 مي	12 مي

19 مي	17 مي	12 مي

أحسب.

29 مي = + + +

33 مي = + + + + +

31 مي = + + + +

39 مي = + + + +

10 مِلِيَمَاتٍ

الْقِطْعُ النَّقْدِيَّةُ



يَحْتَاجُ كُلُّ نَجَّارٍ فِي عَمَلِهِ إِلَى مَسَامِيرٍ. لِذَلِكَ اشْتَرَى الْعَمُّ مُرَادَ 10 مَسَامِيرٍ بِ 40 مِلِيَمًا.

أَمِثِلُ الْمَبْلَغِ الَّذِي أَنْفَقَهُ الْعَمُّ مُرَادَ بِطَرِيقَتَيْنِ

10 10 10
10

20 20

أَضَعُ عَلَامَةَ الْمُقَارَنَةِ الْمُنَاسِبَةَ > = <

5 + 5 + 10 + 10 =

10 + 10 + 10

5 + 10 + 10 <

5 + 10 + 10 + 1

5 + 5 + 5 + 2 >

2 + 10 + 5

10 + 5 + 5 <

2 + 2 + 5 + 10

يَمْلِكُ فَارِسٌ 5 5 = 10 مِي

أَعْطَتْهُ جَدَّتُهُ 10 10 10 = 30 مِي

أَمِثِلُ مَا أَصْبَحَ يَمْلِكُهُ فَارِسٌ بِأَرْبَعِ قِطْعٍ

5 5 10 10

10 مليمات



القطع النقدية

ألون القطع النقدية لأحصل على المبلغ المكتوب داخل الألفته.

1	1	5	5
1	1	5	5
18 مي			

1	10	10	10
1	1	1	5
38 مي			

1	1	1	1
10	5	10	
26 مي			

أمثل المبالغ المالية التالية .

1 9 9 1 1 7 10 10 = 26 مي

9 10 10 10 = 31 مي

10 10 10 10 = 40 مي


2 5 10 = 17 مي

1 1 1 1 1 1 1 10 10 10 = 38 مي

أكمل تغيير الجدول بما يناسب.



5 10 2	10 1 10	5 10	القطع النقدية
17 مي	21 مي	15 مي	المبلغ المالي

20 مَلِيًّا




الْقِطْعُ النَّقْدِيَّةُ


أَكْمِلُ الْقِطْعُ النَّقْدِيَّةَ النَّاقِصَةَ.



أَحْسِبُ الْمَبْلَغَ الْمَالِيَّ فِي كُلِّ مَرَّةٍ.




..... مي



..... مي





..... مي



..... مي

أَشْطُبُ الْقِطْعُ النَّقْدِيَّةَ الزَّائِدَةَ.




أَرْبِطُ الْقِطْعُ النَّقْدِيَّةَ بِالْمَبْلَغِ الْمَالِيِّ الْمُنَاسِبِ.

48 مي ●

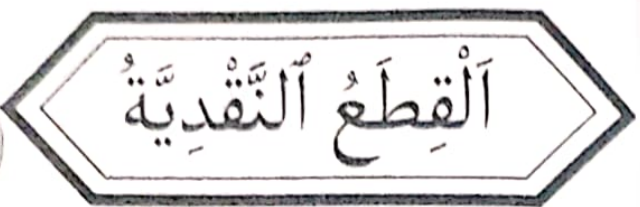


50 مي ●









29 مي ●










أَكْمِلْ تَعْمِيرَ الْجَدُولِ بِمَا يَنْاسِبُ.




  		  	الْقِطْعُ النَّقْدِيَّةُ
مي	40 مي	مي	الْمَبْلَغُ الْمَالِيُّ



أَلَوْنُ الْخَانَةِ الْمُنَاسِبَةَ لِقِيَمَةِ الْقِطْعِ :




  



37 مي 27 مي 73 مي

52 مي 43 مي 34 مي

51 مي 42 مي 52 مي



تَمَلِكُ نَارِدِينَ




 

مي

يَمَلِكُ شَهْرَمُ

مي

يَمَلِكُ اَدْرِيسُ

مي

أَحْسِبُ الْمَبْلَغَ الْمَالِيَّ لِكُلِّ طِفْلِ.

أَرْتَبُ الْمَبَالِغَ تَصَاعُدِيًّا ثُمَّ تَنَازُلِيًّا.


مي > مي > مي

مي < مي < مي

20 مِلِيًّا



الْقِطْعُ النَّقْدِيَّةُ



أَسْرُ وُلِدَ شَغُوفٌ وَبِحُبِّ الْمَطَالَعَةِ. وَلِشْرَاءِ قِصَّةٍ جَدِيدَةٍ فَتَحَ حَصَالَتَهُ فَوَجَدَ الْقِطْعَ التَّالِيَةَ.



أَسَاعِدُ أَسِرٍ فِي حِسَابِ مَا يَمْلِكُ.

يَمْلِكُ أَسِرٌ مِي

أَمِّئِلْ مَا يَنْقُصُ أَسِرَ لِيَشْتَرِيَ قِصَّةً بِـ 50 مِي.

أَحْسِبْ.

$$\text{مِي} \dots\dots\dots = 20 + 1 + 1 + 2 + 2 + 10$$

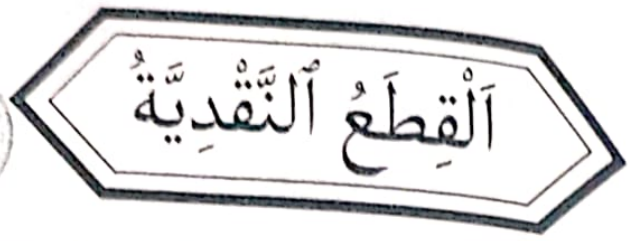
$$\text{مِي} \dots\dots\dots = 2 + 20 + 20 + 5 + 1 + 1$$

$$\text{مِي} \dots\dots\dots = 1 + 10 + 10 + 10 + 2$$

$$\text{مِي} \dots\dots\dots = 2 + 1 + 2 + 10 + 10$$

لِتَشْتَرِيَ وَرَقَةَ تَصُويرٍ بِـ 50 مِي تَحْتَاجُ عَزِيْزَةً إِلَى

أَمِّئِلْ مَا تَحْتَاجُهُ عَزِيْزَةٌ بِقِطْعٍ مِنْ فِئَةٍ وَاحِدَةٍ.



أَمِّثِلُ الْمَبَالِغَ الْمَالِيَّةَ التَّالِيَةَ بِطَرِيقٍ مُخْتَلِفَةٍ.

	← 20 مي →	
	← 32 مي →	
	← 42 مي →	

أَضَعُ عِلَامَةَ الْمُقَارَنَةِ الْمُنَاسِبَةَ > = <

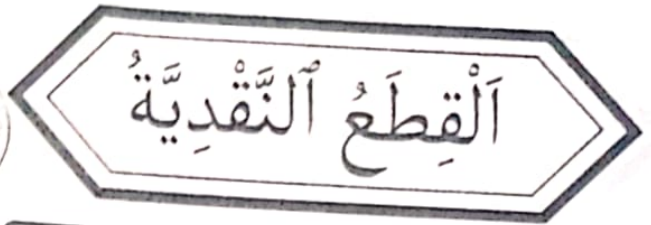

$(5) + (5) + (5) + (5)$	$(5) + (5) + 10$
$(5) + 10 + 20$	$(5) + 10 + (5) + (2)$
$(2) + 10 + 10 + 10$	$(2) + 10 + 20$

أَلَوْنُ الْقِطْعِ النَّقْدِيَّةِ لِأَحْصُلَ عَلَى الْمَبْلَغِ الْمَكْتُوبِ دَاخِلَ الْإِلْفَةِ.


	28 مي
--	-------

	36 مي
--	-------


	41 مي
--	-------




أَحْسِبُ الْمَبْلَغَ الْمَالِيَّ فِي كُلِّ مَرَّةٍ.




..... مي



..... مي





..... مي



..... مي

أَشْطُبُ الْقِطْعَ النَّقْدِيَّةَ الزَّائِدَةَ.




أَرْبِطُ الْقِطْعَ النَّقْدِيَّةَ بِالْمَبْلَغِ الْمَالِيِّ الْمُنَاسِبِ.


49 مي ●





51 مي ●




36 مي ●




أَكْمِلُ الْقِطْعَ النَّقْدِيَّةَ النَّاقِصَةَ مُسْتَعْمِلًا قِطْعًا مِنْ فِئَتَيْنِ مُخْتَلِفَتَيْنِ.





تَمْلِكُ سَمَاحُ




مي.....

تَمْلِكُ رَبَابُ



مي.....

تَمْلِكُ رَيْثَا



مي.....

أَحْسِبُ الْمَبْلَغَ الْمَالِيَّ لِكُلِّ طِفْلَةٍ ثُمَّ أَرْتَبُ مَا تَحَصَّلْتُ عَلَيْهِ تَنَازُلِيًّا.

مي..... < مي..... < مي.....

الْوَنُ الْخَانَةَ الْمُنَاسِبَةَ لِقِيَمَةِ الْقِطْعِ.

77 مي	87 مي	78 مي

52 مي	24 مي	42 مي

65 مي	56 مي	55 مي

أَحْسِبُ.

مي..... = + + + + +

مي..... = + + + +

مي..... = + + + +

مي..... = + + + +

50 مَلِيْمًا



الْقِطْعُ النَّقْدِيَّةُ

أَلْوَنُ الْقِطْعِ النَّقْدِيَّةِ لِأَحْصُلَ عَلَى الْمَبْلَغِ الْمَكْتُوبِ دَاخِلَ الِالْفِتَّةِ.

50 مي

51 مي

46 مي

أَمِثِلُ الْمَبَالِغِ الْمَالِيَّةِ التَّالِيَةِ.

99 مي =

77 مي =

68 مي =

86 مي =

100 مي =

أَكْمِلُ تَعْمِيرَ الْجَدْوَلِ بِمَا يُنَاسِبُ.

المَبْلَغُ الْمَالِيُّ	المَبْلَغُ النَّقْدِيَّةُ
57 مي	
..... مي	

50 مِلِيْمًا

الْقِطْعُ النَّقْدِيَّةُ



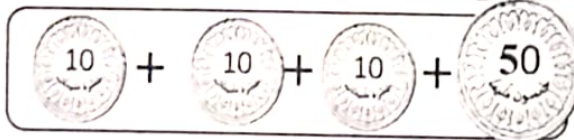

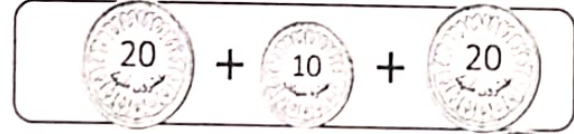

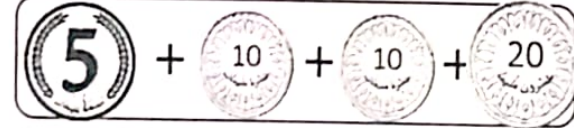


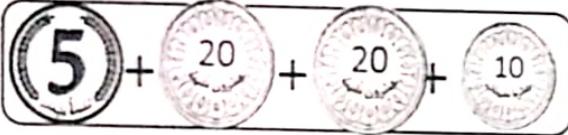
تُحِبُّ رَيْتًا الْحَيَوَانَاتِ الْأَهْلِيَّةِ، لِذَلِكَ اشْتَرَى لَهَا
وَالِدُهَا أَرْزَبًا صَغِيرًا. وَأَعْطَاهَا نَقُودًا لِتَشْتَرِيَ لَهُ الْجَزْرَ.



أَحْسَبُ الْمَبْلَغَ الَّذِي تَمْلِكُهُ رَيْتًا.

تَمْلِكُ رَيْتًا مِي.

أَضْعُ عِلَامَةَ الْمُقَارَنَةِ الْمُنَاسِبَةَ > = <




تَمْلِكُ سَلْمَى مِي = 20 20 10 10 10 10

أَعْطَتْهَا خَالَتَهَا مِي = 5 5 5 5

أَمِثِلُ مَا أَصْبَحَتْ تَمْلِكُهُ سَلْمَى بِقِطْعَتَيْنِ نَقْدِيَّتَيْنِ.

الإصلاح



A D I B



منشورات أويب

ما أجمل أن تكون الرياضيات في متناول الطفل وهو في السنة الأولى من تعلمه الأساسي! يُقَلِّب القطع التَّقْدِيَّةَ وفي ظنه أنه يلعب ويمرح فإذا به يملك ناصية الحِسابِ فيجمعها دون عناءٍ.

والفضلُ كُلُّ الفضلِ لهذا الكتاب ولصاحبه الذي أَلْفَهُ وكله أملٌ في طفلٍ يُحسنُ العَدَّ قِراءةً وكتابةً وَتَمْثِيلًا ومقارنةً وترتيبًا وتفكيكا وتركيبًا.

لطفِي حمودة

أستاذ أول مميّز للتعليم الثانوي

