

السند 6: في آخر الحفل أهدى الأديب لابنته
 3 مَحْشُورَاتٍ مِنَ الْقِيَصِ. تَعْدُ الْأُولَى 21
 قِصَّةً وَتَعْدُ الثَّانِيَّةُ 13 قِصَّةً أَكْثَرَ مِنَ الْأُولَى
 وَتَعْدُ الثَّلَاثَةُ 4 قِصَصٍ



التعليمة 10: أَحْسَبُ عَدَدَ الْقِيَصِ بِالمَجْمُوعَةِ الثَّانِيَّةِ

+		=	+	

مع 1
 لا
 مع 0
 لا


التعليمة 11: أضع علامة (x) أمام السؤال العنابي

سأبحث الآن عن:

عَدَدُ الْقِيَصِ فِي المَجْمُوعَةِ الْأُولَى

عَدَدُ الْقِيَصِ فِي المَجْمُوعَةِ الثَّلَاثَةِ

شَعْنُ كُلِّ الْقِيَصِ



مع 5
 لا

التعليمة 12: أُجِيبُ عَنِ السُّؤَالِ الَّذِي اخْتَرْتَهُ

+		=	+	

مع 5
 لا

التعليمة 13: هَلْ جَمَعَتِ الْبَيْتُ 60 قِصَّةً بِإِلَاقَاتِهَا

أَشْطَبُ الخَطَأَ

جَمَعَتِ الْبَيْتُ 60 قِصَّةً نَعَمْ لَا

مع 5
 لا

لأن:



جدول اسناد الأعداد

عدد 5	عدد 4	عدد 3	عدد 2	عدد 1	
1	0	0	0	0	انعدام التعداد
2	1	1	1,5 1 0,5	1	(- - +)
3	2	2	2	2	(- + +)
4	3	3	3 2,5	3	(+ + +)



المادة:
المعلم (ة):
العدد المسند: 20/.....

اختبار الثلاثي الثالث
2013/2012



المستوى: الأولي / ع / ر

اللقب:


الأسم:

السند 1: اليوم تحنقل سمية بعيد ميلادها.
صنعت أمها 41 قطعة من المرطبات الصغيرة
الحجم و 8 قطع من المرطبات الكبيرة الحجم

مع
لا

التعليمة 1: أحسب عدد قطع المرطبات التي صنعتها الأم

مع
لا



التعليمة 2: أرتب أعداد العمليات تصاعدياً

مع
لا

السند 2: اشترى أمي 93 بالوناً أحمر اللون
و 19 بالوناً أزرق اللون و 6 شموع

مع
لا

التعليمة 3: أحسب عدد البالونات التي اشترىها الأب

مع
لا



التعليمة 4: أرتب أعداد العمليات من الأكبر إلى الأصغر

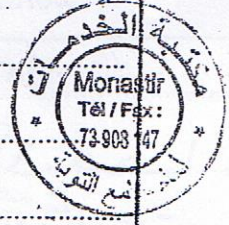
مع
لا

السند 3: اشترت سمية أمي قاء طاف حمر
الحقل 36 طافلاً
التعليمة 5: أفكر حسب اختياري



..... + = 36

معد
|




السند 4: اشتري يسامي ورييم ومرام هدايا
لمديقتهم سمية وبقني لهم هذه المبالغ المالية

بقني لمرام	بقني لرييم	بقني لیسامي
 68 مبي		 76 مبي

معد
| |

التعليمة 6: أحسب المبلغ الذي بقني لیسامي
التعليمة 7: أمثل المبلغ الذي بقني لرييم
التعليمة 8: اكمل تمثيل المبلغ الذي بقني لمرام

السند 5: عذبة صورة لسمية مع أصدقائها أثناء
الحفل



التعليمة 9: أكتب الحظاء
تحميل سمية العصى السحرية بيديها اليمنى

معد
| |

تقف سمية على يسار علي يمين خرايس
الهدايا فوق تحت أنظار اولاد