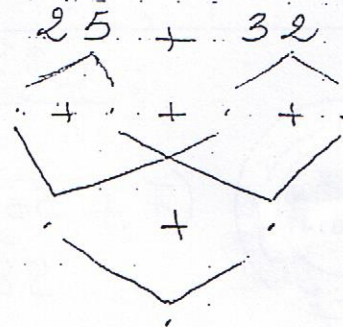


تعد نهاية العام الدراسي زار الأطفال صيعة جديهم
 فشاطعوا 32 دجاجة و 25 بطة
 1) أحسب عدد الطيور

$$\begin{array}{r} + \\ \hline = \end{array}$$

2) اكتب العدد ناقص



طلبت الجدة من أحفادها أن يجمعوا البيض
 جمع سامي 31 بيضة وسلي 14 بيضة وخليل 19 بيضة
 3) ما هو عدد البيض

$$\begin{array}{r} + \\ + \\ \hline = \end{array}$$

4) أرتب أعداد العملية تنازليا



أخذ الأطفال البيض لبيعه. ثمن البيضة 85 هي

5) أتمم بما يناسب

$$\dots + \dots = 85 \quad \dots + 25 = 85 \quad \dots + 50 = 85$$

٦) أعطى أحمد ١٠٠ ديناراً لكنّه لم يبقَ له شيءٌ من النقود.

امام جامع القوية بالمنستير

ساجي	تسلمي	خليل
		
حسب القليل الباقي	٤٠ ديناراً باقى عندى	٤٠ ديناراً القليل
٠ دينار	٦٣ دينار	٩٨ دينار

٧) فتح العلامة < = > مكان النقطة.



$(7 + 50) = 57$ $63 = 57$
 $98 = 63$ $98 = 85$

٨) بعد سألني ٦٣ ديناراً تريد شراء قطعة حلوى
بمبلغ ٧٥ ديناراً.

٩) هل تستطيع شراءها؟

لأن

زادها نحوها خليل ٢٥ ديناراً

١٠) كم أصبح عندها؟

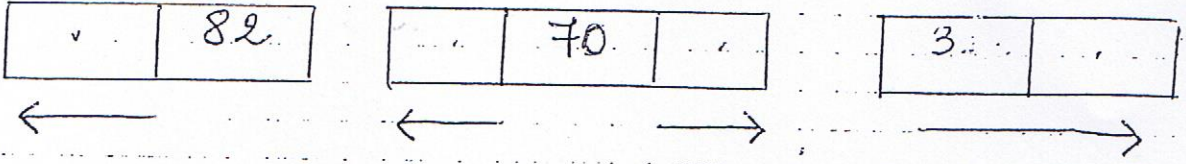
+

=

مكتبة الخدمات

امام جامع القوية بالمنستير

اكتب العدد المناسب



اكمل

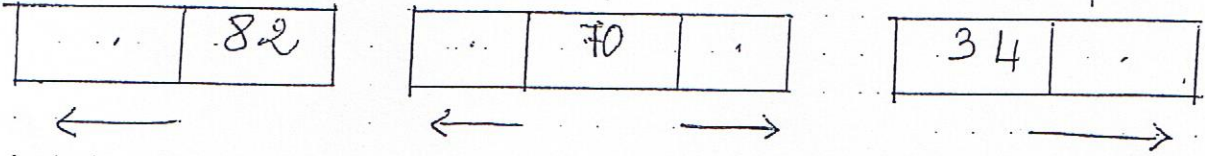
$$20 + \dots = 25$$

$$\dots + 30 = 32$$

$$\dots + 60 = 63$$

$$7 + \dots = 47$$

اكتب العدد المناسب



اكمل

$$20 + \dots = 25$$

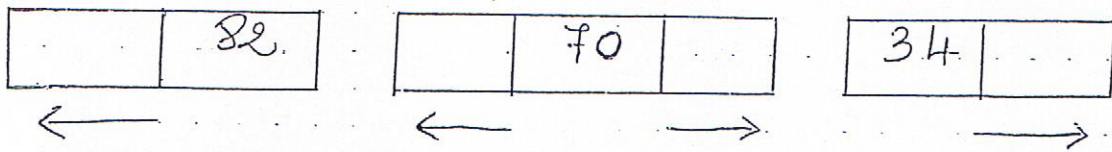
$$\dots + 30 = 32$$

$$\dots + 60 = 63$$

$$7 + \dots = 47$$



اكتب العدد المناسب



اكمل

$$20 + \dots = 25$$

$$\dots + 30 = 32$$

$$\dots + 60 = 63$$

$$7 + \dots = 47$$

مكتبة الخدمات