


الاسم: . . . . .	تقييم مكتسبات التلاميذ في نهاية الثلاثي الأول	المدرسة الابتدائية الخامسة
اللقب: . . . . .	المادة: إيقاظ علمي . السنة الأولى ديسمبر 2009	سور المعارف

السند 1

يَسْكُنُ كَرِيمٌ فِي أَسْفَلِ طَائِقٍ مِنْ هَذِهِ الْعِمَارَةِ .  
لَلَّ قَبَاجٍ يَجْمَلُ كَرِيمٌ مِحْفَظَتَهُ بِيَدِهِ الْيُمْنَى وَيَذْهَبُ  
إِلَى الْمَدْرَسَةِ .

التعليمة 1



- 1 - 1 : أَلَوْنُ الطَّائِقِ الَّذِي يَسْكُنُ فِيهِ كَرِيمٌ .
- 1 - 2 : أَرْسَمُ مِحْفَظَةَ كَرِيمٍ .
- 1 - 3 : أَحْيِطُ بِحَظٍّ مَغْلِقٍ أَبْعَدَ شَجَرَةٍ عَنْ كَرِيمٍ .

معد 1  
معد 2  
معد 3

السند 2

عِنْدَمَا يَعُودُ كَرِيمٌ مِنَ الْمَدْرَسَةِ يَتَنَاوَلُ لَمْجَةً وَيُنْجِرُ  
تَمَارِينَهُ ثُمَّ يَجْلِسُ يَجَانِبَ أُخْتِهِ رَانِيَةَ لِيَتَأَمَّرَ  
بِنَوْمِهَا الْأَطْفَالِ .

التعليمة 2

- 2 - 1 : أَلَوْنُ عَضْوِ الْعَاسَةِ الَّتِي يَسْتَعْمِلُهَا كَرِيمٌ  
عِنْدَ تَنَاوُلِ اللَّمْجَةِ .

معد 1





٢ - ٢ : أَشْطَبُ الْخَطَأُ :


يَجْلِسُ كَرِيمٌ عَلَى يَمِينِ عَلَى يَسَارِ - رَأَيْتُ .

مع 3

٣ - ٢ : أَرْسَمُ زَهْرَةً عَلَى يَسَارِ كَرِيمٍ .

مع 3

٤ - ٢ : أَفْعُ عَلَامَةٌ تَحْتَ عَصَا الْحَاسَةِ الَّتِي يَسْعِمِلَهَا كَرِيمٌ عِنْدَ مُتَابَعَةِ الْبَرْتَامِجِ .






مع 1

المسند 3

فِي بَرْتَامِجِ الْأَطْفَالِ هَذَا الْيَوْمِ عَرَفْنَا نَسِيقَ لِلْحَيَوَانَاتِ .

التعلیمه 3



1 - 3 : الْوَيْلُ أَقْرَبُ حَيَوَانٍ مِنَ الشَّجَرَةِ .

مدارج

2 - 3 : أَحْيَيْطُ بِخَطِّ مُغَلِّينَ الْحَيَوَانَاتِ لَهَا أَطْوَلُ دَيْلٍ

مدارج

3 - 3 : الْكُتُبُ : أَمَامَ . وَرَاءَ .

الْحِصَانُ ..... الْأَرْبَابُ

مدارج

4 - 3 : أَشْطَبُ الْخَطَأُ :

الصَّفْدَعَةُ أَمَامَ وَرَاءَ الْغُرَالَةِ .

مدارج



المسند 4 :

بَعْدَ مُتَابَعَةِ بَرْنَامِجِ الْأَطْفَالِ يَلْعَبُ كَرِيمٌ مَعَ أَخِيهِ  
بِالْكُرَةِ وَيَتَنَاوَلُ طَعَامَ الْعِشَاءِ ثُمَّ يَسْتَمِعُ إِلَى الْمَوْسِيقِ

التعليمية 4

1 - 4 : أَفْخُ عَلَامَةٌ تَحْتَ الْمَشْمَدِ الَّتِي يُضْرُّ بِحَوَائِشِ  
كَرِيمٍ عِنْدَ اللَّعِبِ .

مدارج



2 - 4 : الْوَيْلُ الْمَشْمَدِ الَّتِي يُضْرُّ بِحَوَائِشِ كَرِيمٍ



مدارج

3 - 4 : أَحِيْطُ بِخَطِّ مُغَلِّقِ الْمَشْمَدِ الَّذِي يُضِرُّ بِعَاشَةِ السَّمْعِ

معراج



### جدول مسناد الأعداد

معراج التميز		معايير الحد الأدنى				مستويات التملك
		مع 2 ب	مع 1 ج	مع 1 ب	مع 1 م	
		0	0	0	0	انعدام التملك
2,5	2,5	1,5	1	1	1,5	دون التملك الأدنى + -
		3	2	2	3	التملك الأدنى + + -
	5	4,5	3	3	4,5	التملك الأقصى + + +