

فرض المراقبة الثالث

الاسم:

اللقب:

القسم:

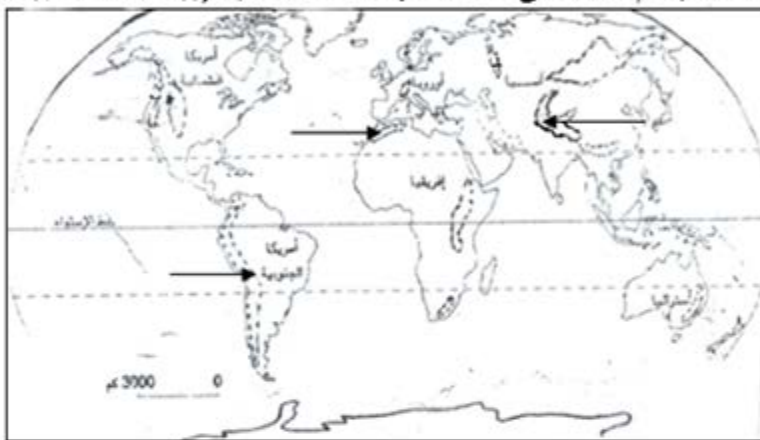
I الجزء الأول : (6 نقاط)

/2

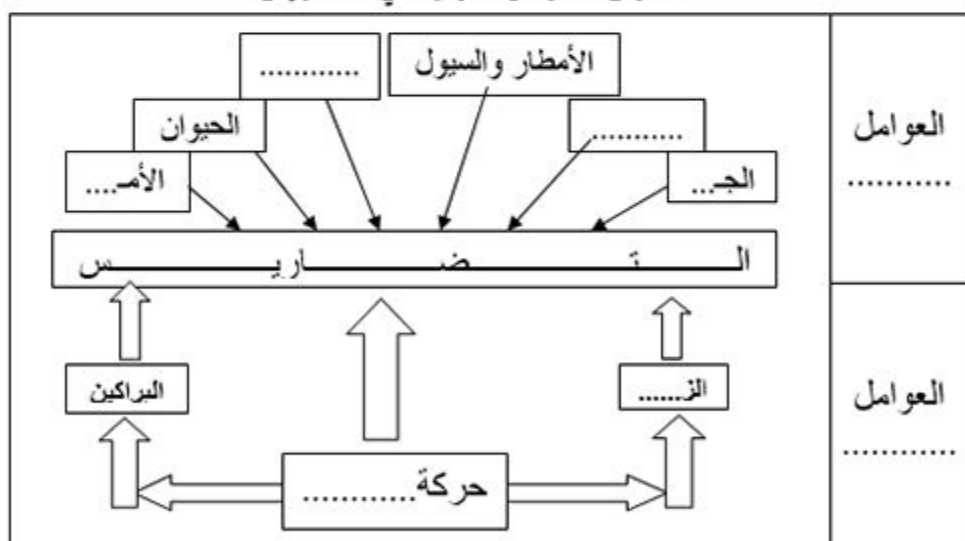
1. أكمل الجدول للتعرف على خصائص ووظائف وسط المدينة :

وظائف وسط المدينة	خصائص وسط المدينة
.....
.....

/4 2. لون كل السلاسل الجبلية ثم سجل على المحدد منها الأسماء التالية: (جبال الأطلس - جبال الأند - جبال الهملايا)

II الجزء الثاني : (12 نقطة) فقرة مدعومة برسم مبسط :

العنوان: العوامل المؤثرة في التضاريس



/4

1. أكمل الرسم المبسط مفردات وألوانا:

/4

2. استعن بهذا الرسم لتكوين جملتين تعرفان بصنفي العوامل المؤثرة في التضاريس:

/4

3. أذكر أبرز أشكال التضاريس:

.....

.....

.....

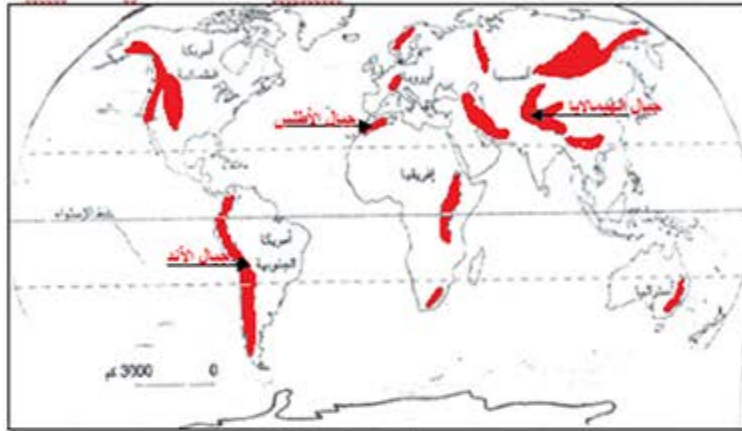
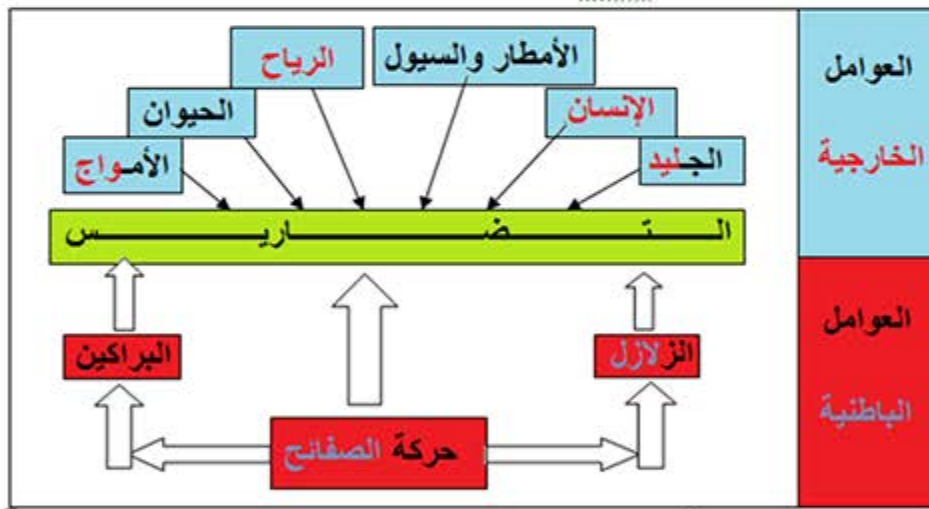
.....

اصلاح فرض المراقبة الثالث(المثال1)**I القسم الأول : (6 نقاط)****1. التمرين الأول:**

12

وظائف وسط المدينة	خصائص وسط المدينة
- أنشطة اقتصادية متنوعة غير الفلاحية - أهمية أنشطة القطاع الثالث (الخدمات).	- قلة امتداده ألمجالي حيث يهيمن الامتداد العمودي للبناءات. - حيويته وأهمية دوره الاقتصادي.

14

2. التمرين الثاني:**II القسم الثاني : (12 نقطة) فقرة مدعومة برسم مبسط :**

14

1. التمرين الأول: (أنظر الإجابة على الرسم)

14

2. التمرين الثاني:

تصنف العوامل المؤثرة في التضاريس إلى عوامل باطنية تتمثل في حركة الصفائح التي تتسبب في الزلازل وفي ثورات البراكين وتنشأ عن هذه الحركة التضاريس الإلتوائية والانكسارية والجبال البركانية أما العوامل الخارجية فهي أكثر تنوعا حيث تشمل العوامل المناخية كالأمطار والرياح والجليد كما تشمل تأثير أمواج البحر على السواحل ولا ننسى تأثير الإنسان من خلال أنشطته غير المدروسة التي تؤثر على التضاريس فتتسبب في تصحرها أو انجرافها.

14

3. التمرين الثالث:

- الهضاب
- السهول

- الجبال
- التلال

فرض المراقبة الثالث

الاسم:
اللقب:
القسمة:

I القسم الأول : (6 نقاط)

12

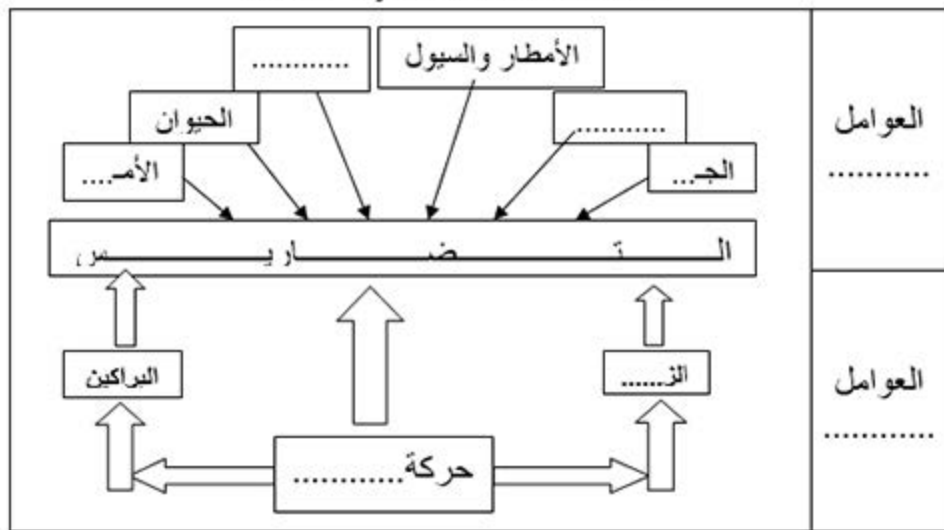
1. أكمل الجدول للتعرف على خصائص ووظائف الضواحي :

وظائف الضواحي	خصائص الضواحي
.....	-
.....	-

14

2. أكمل الرسم المبسط مفردات وألوانا:

العنوان: العوامل المؤثرة في التضاريس



II القسم الثاني : (12 نقطة) تحليل وثيقة

أجب على الأسئلة بالاعتماد على الوثيقة ومستعينا بالدرس:

بيساكيرى : موقعها وخصائصها الطبيعية وأنشطتها

1. قدم نوع الوثيقة وموضوعها ثم حدد
باعتماد سهم موقع بيساكيرى:

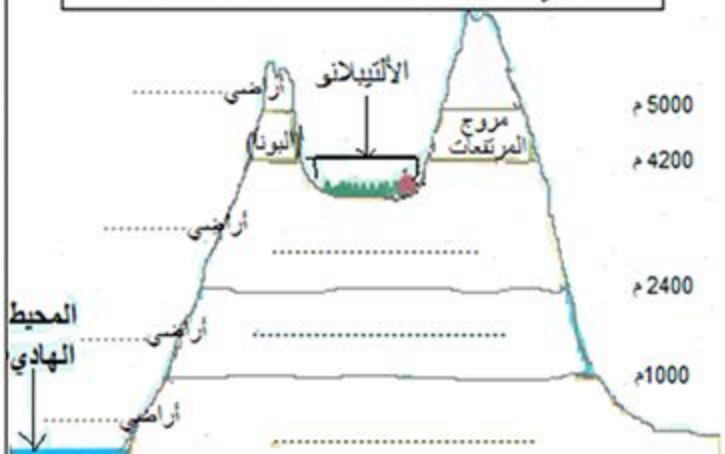
13

2. أكمل الفراغات الخاصة بتصنيف
الأراضي على سفوح الأند (باردة - متجمدة -
دافئة - معتدلة) وبمنتجاتها الزراعية.

15

3. عرف بالخصائص الطبيعية لقرية
بيساكيرى وأهم منتجاتها الفلاحية

14



اصلاح فرض المراقبة الثالث(المثال2)**I الجزء الأول : (6 نقاط)**

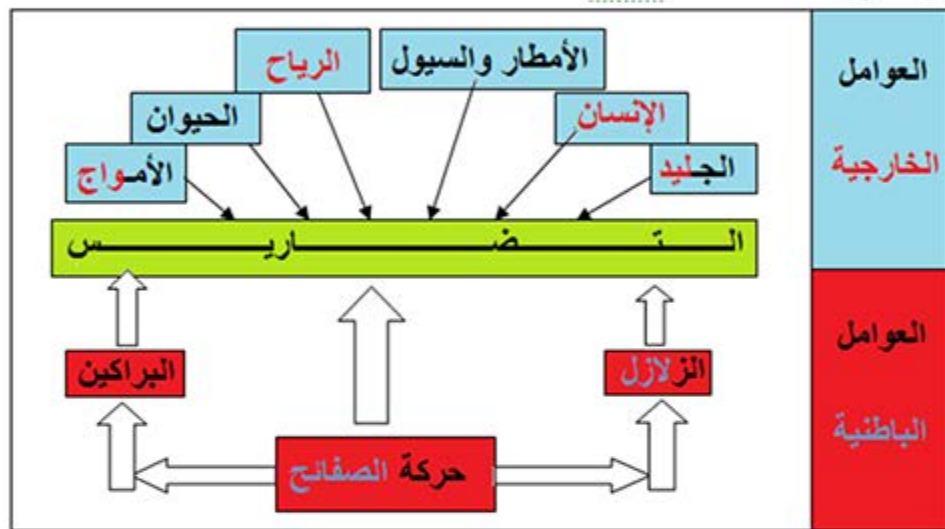
12

1. التمرين الأول:

وظائف الضواحي	خصائص الضواحي
<ul style="list-style-type: none"> - سكنية فردية أو جماعية - أنشطة أخرى على شكل مركبات صناعية أو رياضية أو ترفيهية أو تجارية أو تعليمية أو أبحاث.... 	<ul style="list-style-type: none"> - تتميز باختلاف مشاهدتها - امتداد أفقي أو عمودي للبناءات

14

2. التمرين الثاني:

**II الجزء الثاني : (12 نقطة) تحليل وثيقة**

13

1. التمرين الأول:

هذه الوثيقة على شكل رسم مبسط يتعلق بموضوعه بقرية بيساكيري موقعها وخصائصها الطبيعية وأنشطتها.

15

2. التمرين الثاني:

(انظر الإجابة على الرسم)

14

3. التمرين الثالث:

بيساكيري هي إحدى قرى بوليفيا الجبلية تقع في الألباتيلانو وهي هضبة بين سلسلتين من جبال الأنديز على ارتفاع 3800 م هذا من الناحية التضاريسية.



أما من الناحية المناخية فإن هذه القرية تتميز ببرودتها وقلة أمطارها. وقد سعى الفلاحون إلى التأقلم مع وسطهم الطبيعي المرتفع والبارد من خلال زراعة المنتوجات التي تتلاءم مع برودة الطقس كالشعير والبطاطا إلى جانب منتوجات أخرى بكميات قليلة مع العناية بتربية بعض الماشية. وباعتبار وعورة الموقع فإنهم يستخدمون وسائل إنتاج تقليدية تجعل إنتاجهم ضعيفا ومجتمعهم منغلقا.

فرض المراقبة الثالث

الاسم:
اللقب:
القسم:

I القسم الأول : (6 نقاط)

/3

1. عرف الأحياء القصدية وموقعها من المدينة.

/3

2. لون كل السلاسل الجبلية ثم سجل على المحدد منها الأسماء التالية: (جبال الألب – جبال الروكي – جبال اورال)



II القسم الثاني : (12 نقطة) تحرير فقرة

الموضوع: عرف من خلال فقرة بالعوامل الخارجية المساهمة في تشكل التضاريس مبرزاً دور الإنسان فيها.

/1.5

المقدمة:

/9

الجوهر:

/1.5

الخاتمة:

اصلاح فرض المراقبة الثالث(المثال3)**I القسم الأول : (6 نقاط)**

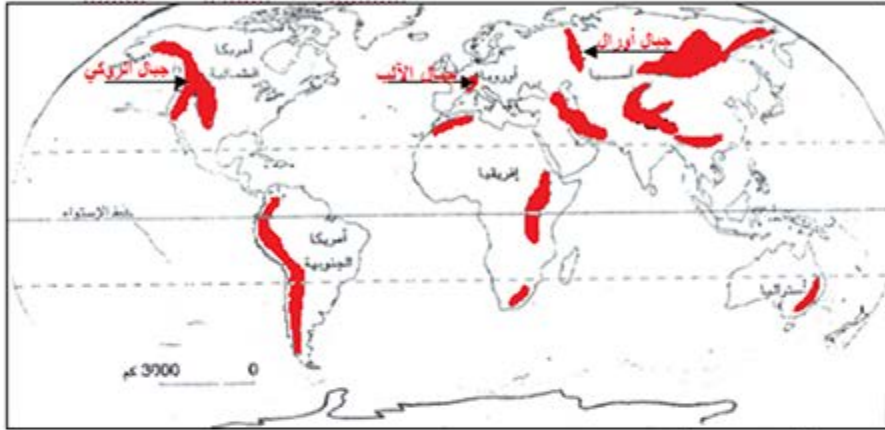
/3

1. التمرين الأول:

الأحياء القصديرية هي أحياء فقيرة جدا تقع في أطراف وسط المدن النامية وهي غالبا تتكون من النازحين الجدد الذين يقبلون العيش في ظروف صعبة جدا حيث تفتقر هذه الأحياء إلى كل المرافق الضرورية.

/3

2. التمرين الثاني:

**II القسم الثاني : (12 نقطة) تحرير فقرة**

الموضوع: عرف من خلال فقرة بالعوامل الخارجية المساهمة في تشكل التضاريس مبرزا دور الإنسان فيها.

/1.5

المقدمة :

تتنوع العوامل المساهمة في تشكل التضاريس منها العوامل الباطنية ومنها العوامل الخارجية. فما هي العوامل الخارجية المساهمة في تشكل التضاريس وما هو نصيب الإنسان منها؟

/9

الجوهر:

تتعدد العوامل الخارجية المساهمة في تشكل التضاريس منها العوامل المناخية كالأمطار والمياه السائلة في المناطق الممطرة المعتدلة والدافئة والرياح في المناطق الصحراوية خاصة والجليد في المناطق القطبية والمناطق الجبلية الشاهقة. أما السواحل فتتأثر تضاريسها بأموج البحر فهي تنخر الصخور الصلبة فتفتتها وتنقل الرمال إلى سواحل أخرى فيتغير شكلها تدريجيا.

إلا أن الإنسان يعتبر أهم عنصر خارجي يمكن أن يساهم في تشكل التضاريس بصفة مباشرة عبر استغلال مقاطع الحجارة التي يمكن أن تتسبب في القضاء على بعض التلال مثلما يمكن أن تتسبب في تنشيط البركان إذا استغلت حجارتها بصفة عشوائية أما بصفة غير مباشرة فيكون بالاحتطاب العشوائي وفي اقتلاع بعض الأنصاف من الأعشاب مثل الحلفاء فيتسبب السيلان في المناطق ذات الانحدار القوي في جرف السفوح بشكل خطير. كما أن تكثيف الرعي في المناطق المهدة بالصحرا او الانجراف يمكن أن يسرع في اتلاف مناطق شاسعة تصبح غير صالحة فلاحيا مع تغير شكل تضاريسها. وبذلك نستنتج أن دور الإنسان مثلما يمكن أن يساعد على تغير شكل التضاريس فإنه يمكن أيضا أن يكون عنصرا محافظا على شكل التضاريس.

/1.5

الخاتمة:

إن دور الإنسان بارز على مستوى العوامل الخارجية المساهمة في تشكل التضاريس إلا أن هذا الدور منعدم في العوامل الباطنية. فكيف تساهم العوامل الباطنية في تشكل التضاريس؟

الصياغة والتنظيم /2