

فرض المراقبة الأول

الاسم:

اللقب:

القسم:

I الجزء الأول: (6 نقاط)

خريطة التفاوت في التقدم في العالم



1. لون ما يناسب على الخريطة

/3 حسب المفتاح:

المفتاح:

البلدان المتقدمة الرأسمالية

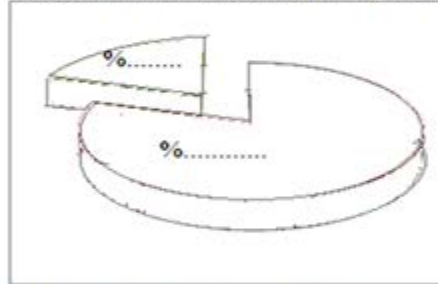
/3

2. عرف نسبة التمدرس:

II الجزء الثاني: (12 نقطة) تحليل رسم بياني

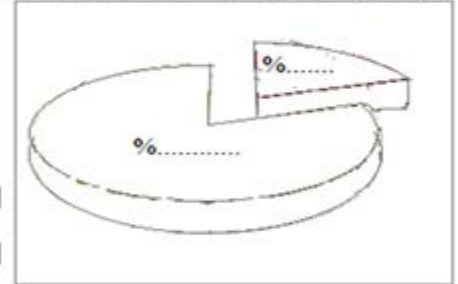
العنوان: التفاوت بين سكان العالمين المتقدم والنامي ونصيبهم من الناتج العالمي الخام سنة 2004

توزع الناتج العالمي الخام بين الدول المتقدمة والدول النامية



المصدر: مؤتمر الأمم المتحدة للتجارة والتنمية 2005

توزع سكان العالم بين الدول المتقدمة والدول النامية



المفتاح:

الدول النامية الدول المتقدمة

/4

أجب على الأسئلة بالاعتماد على الوثيقة ومستعينا بالدرس:

1. قدم نوع الوثيقة وموضوعها ومصدرها وأكمل الناقص فيها:

/4

2. حلل الفكرتين المطروحتين في هذين الرسمين:

3. بين أثر هذه الوضعية على تركيز الثراء في الدول المتقدمة والفقير في الدول النامية مع ضرورة الاستدلال بأمثلة

/4

دقيقة:

اصلاح فرض المراقبة الأول (مثال 4)**I الجزء الأول : (6 نقاط)****خريطة التفاوت في التقدم في العالم**

13 1. التمرين الأول:

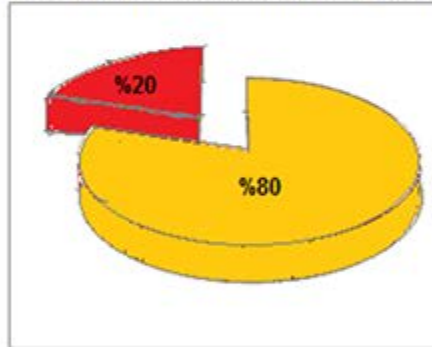
المفتاح:

البلدان المتقدمة الرأسمالية

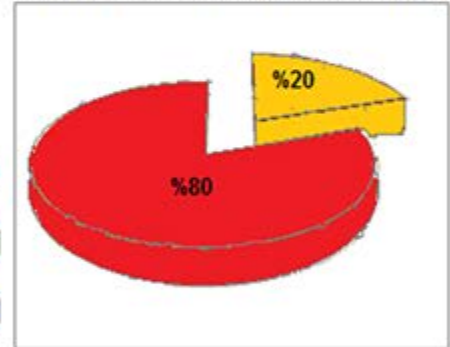
13 2. التمرين الثاني:

هي نسبة الأطفال الملتحقين بمقاعد الدراسة ممن هم في سن التعلم.**II الجزء الثاني : (12 نقطة) تحليل رسم بياني****العنوان: التفاوت بين سكان العالمين المتقدم والنامي ونصيبهم من الناتج العالمي الخام سنة 2004**

توزع الناتج العالمي الخام بين الدول المتقدمة والدول النامية



توزع سكان العالم بين الدول المتقدمة والدول النامية



المفتاح:

الدول النامية

الدول المتقدمة

المصدر: مؤتمر الأمم المتحدة للتجارة والتنمية 2005

14 1. التمرين الأول:

هذه الوثيقة على شكل رسمين بيانيين دائريين (اسطوانيين) يتعلق موضوع الرسم الأول بتوزع سكان العالم بين الدول المتقدمة والدول النامية في حين يتعلق الثاني بتوزع الناتج العالمي الخام بين دول العالم المتقدم والدول النامية وقد صدر كلاهما عن مؤتمر الأمم المتحدة للتجارة والتنمية لسنة 2005.

14 2. التمرين الثاني:

يبرز الرسمان التفاوت الحاد بين سكان العالمين المتقدم والنامي ونصيبهم من الناتج العالمي الخام حيث أن سكان العالم النامي يمثلون 80% من مجموع سكان العالم لكنهم لا يوفرون إلا 20% من الناتج العالمي الخام وفي المقابل لا يمثل سكان العالم المتقدم سوى 20% من مجموع سكان العالم لكنهم يوفرون 80% من الناتج العالمي الخام.

14 3. التمرين الثالث:

تسبب هذا التفاوت الحاد في توزيع السكان والثروة بين العالمين المتقدم والنامي في ارتفاع نسبة الفقر في البلدان النامية وخاصة القارة الآسيوية التي تووي 66% من فقراء العالم تليها القارة الإفريقية بنسبة

27% **المصاحبة والتنظييه**