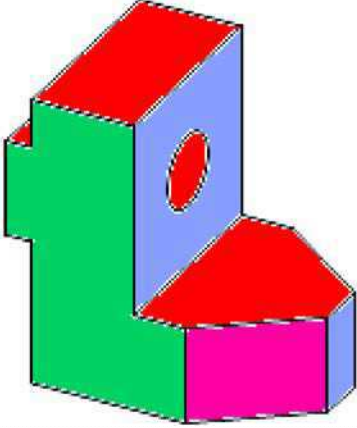
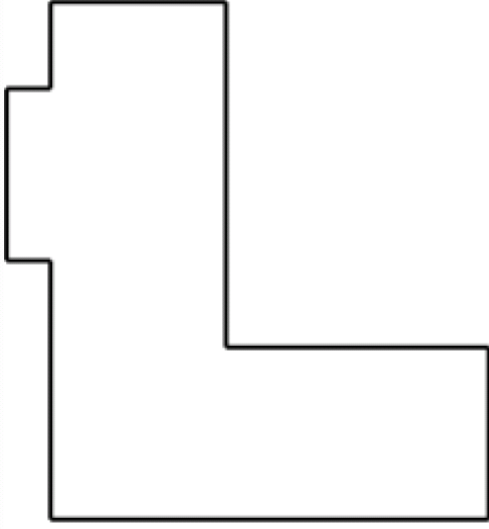
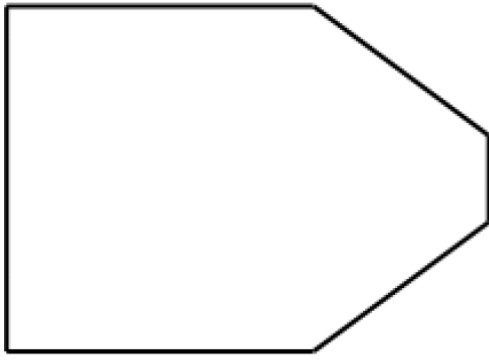
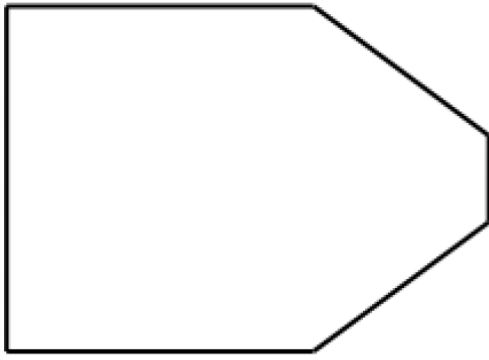



العدد المسند		فرض مراقبة عدد 3		
		فى مادة التربية التكنولوجية		
		الضارب: 1	المدة: 30 دق	الرقم:

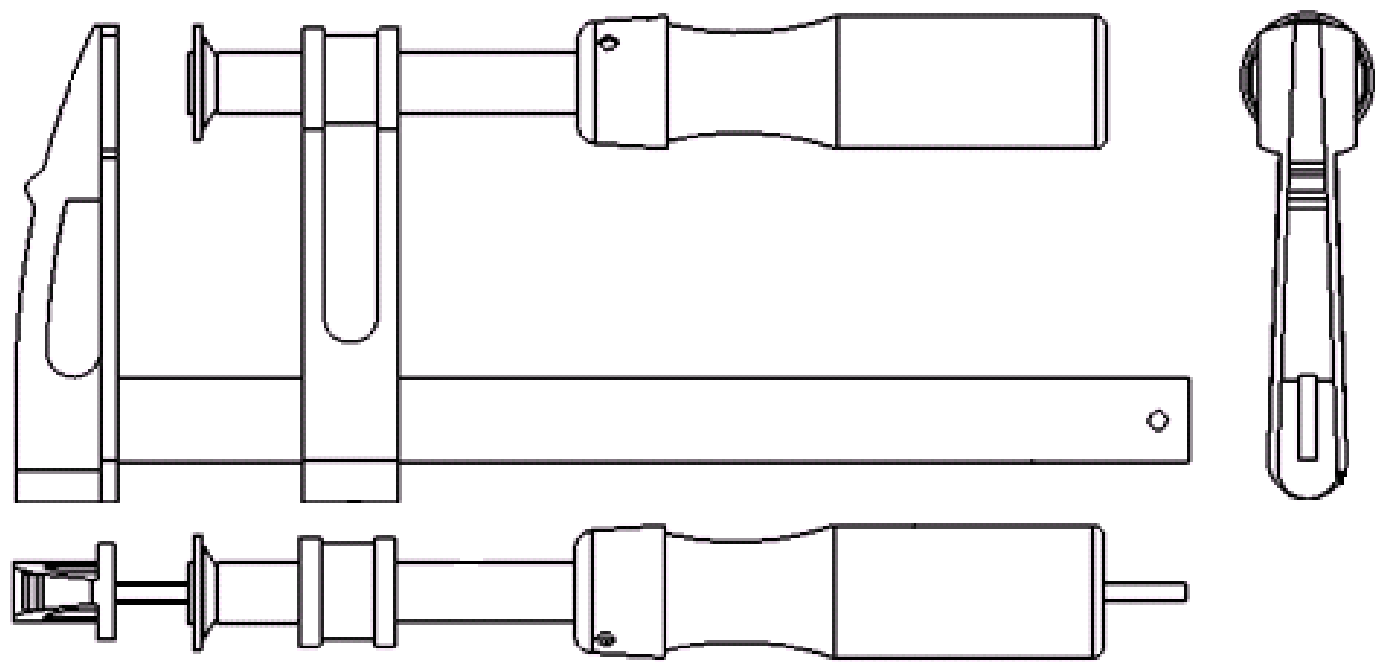
	4	3	2	1
A	<p>التمرين 1 أكمل رسم المساقط التالية معتمدا على الرسم المنظوري للقطعة : (الاجابة 7=14X0.5 نقاط)</p>			
B				
C				
D				
E				
F	الاسم :		السلم :	
				
	المدرسة الإعدادية :			
	4	3	2	1

التمرين 2:
 أ - يمثل الرسم التالي (الرسم عدد 1) رسم ثلاثي الأبعاد
 لمثبت القطع (الاجابة 13X0.5=6.5 نقاط)

السؤال :
 لون على مختلف المساقط للرسم الشامل :

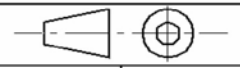
- القطعة رقم 1 باللون الأزرق
- القطعة رقم 2 باللون الأحمر
- القطعة رقم 3 باللون الأخضر
- القطعة رقم 6 باللون الأسود
- القطعة رقم 5 باللون الأحمر

الرسم عدد 1



الاسم :

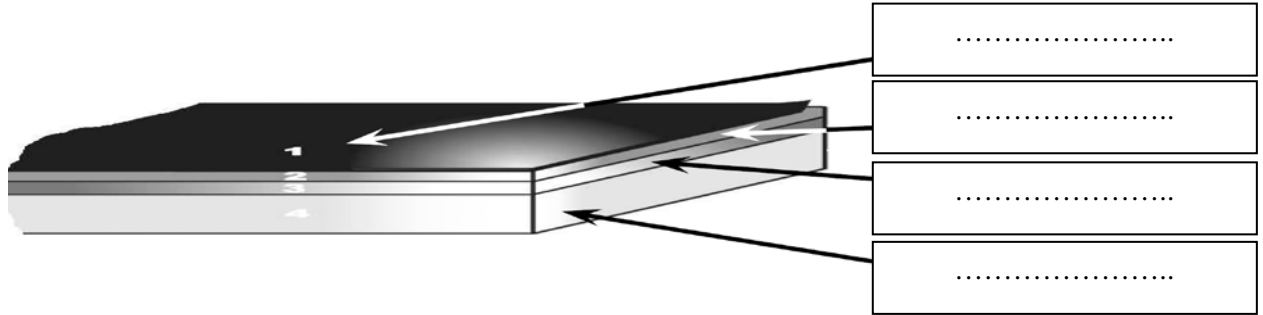
السلم :



المدرسة الإعدادية :

التمرين 3 :

يمثل الرسم التالي لوحة خاصة لانجاز الدارة المطبوعة : (الاجابة 4X0.5=2 نقاط)
أ- السؤال : أكتب في كل خانة اسم الطبقة المناسبة



ب - رتب مراحل انجاز الدارة المطبوعة بكتابة رقم المرحلة المناسبة جانب كل خانة : (الاجابة 9X0.5=4.5 نقاط)

الغسل و التنظيف	←	...	تثبيت المكونات بالدارة	←	...
التشميس	←	...	النقاشة	←	...
القصدرة	←	...	الغسل	←	...
الثقب	←	...	تهيئة اللوحة	←	...
المراقبة	←	...	انجاز مخطط الدارة المطبوعة	←	...
			الكشف	←	...