

الأسم واللقب :
القسم : وأس..... الرقم :

إختبار كتابي عـ 02ـ دد
التدبنة التكنهله حبة

:

120

الضارب: 1

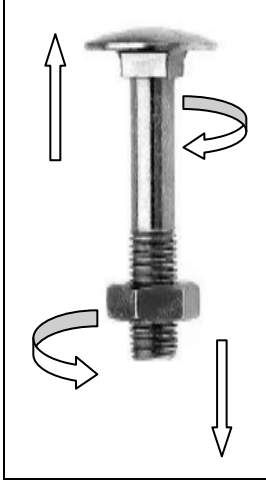
التوقيت: 1/2 ساعة

/...../.....

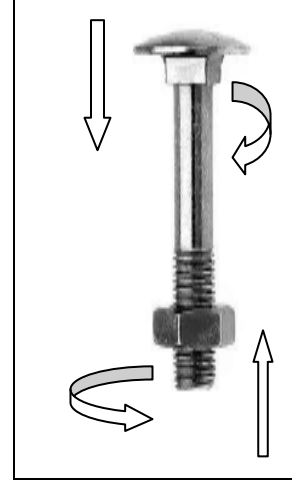
الأسئلة:

السؤال الأول: (08 ن /)

(1) أكمل الفراغ بما يناسب : يميني - يساري



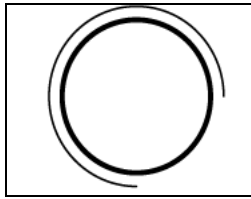
مسمار ربط يحتوي على



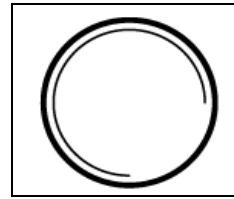
مسمار ربط يحتوي على

.....

(2) أذكر نوع اللولب الموجود على كل قطعة حسب رسمها المقنن



لولب



لولب.....

السؤال الثاني: (12 ن /)

أ - أكمل المسقط اليساري لجسم الموقد الغازي حسب القطاع A-A

ب - أرقم اللوالب

القطعة من مادة الفولاذ

السلم 1:1

