

أخذ من القبة على

الاسم و النقب :
العدد الرتبي :

مدة الإمتحان 30 دق

المنتج: مروحة كهربائية

يستعمل الإنسان المروحة الكهربائية لتحريك الهواء داخل الغرفة حتى يشعر بالبرودة عند الإحساس بارتفاع الحرارة. ولهذا الغرض قامت المؤسسة بإنتاج المروحة الكهربائية.

السؤال عدد1: أتم إنجاز أداة التعبير الوظيفي للمروحة الكهربائية مستعينا بالعناصر التالية:
المستعمل – الثمن – الحماية – المظهر – الهواء الداخلي – الوزن – الطاقة الكهربائية – السقف

/1

السؤال عدد2: أكمل صياغة وظائف الخدمات:

- و1: تمكّن المروحة الكهربائية من.....

..... الهواء الداخلي.

- و1: يجب أن يكون ثمن الجهاز
مع توفير الجودة.

- و2: يجب أن توفر
للمستعمل.

- و3: يجب أن يكون مظهرها
يعجب

- و4:
و5: يجب أن تشتغل المروحة الكهربائية ب.....

- و6: يجب أن تثبت المروحة الكهربائية على
باستعمال

السؤال عدد3: حدّد خصائص الوظائف المتعلقة بالثمن و الوزن:

الوظائف	المعيار	المستوى	الليونة
- و1:	40 دينار
- و4:	الوزن

/1.5

السؤال عدد4: أتم إنجاز جدول الفرز المتقاطع:

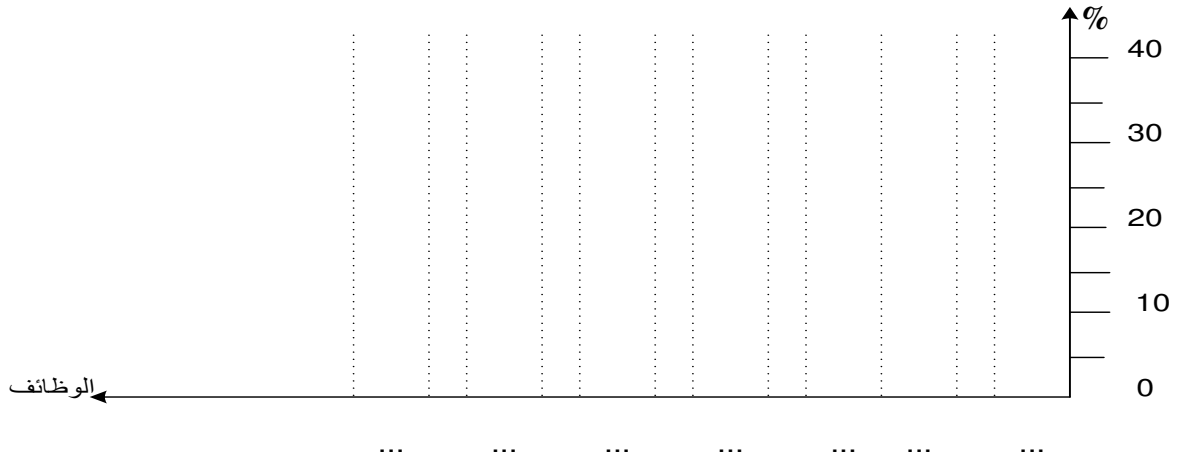
	و1	و2	و3	و4	و5	و6	مجموع النقاط	النسب المئوية
و1								
	و1							
		و2						
			و3					
				و4				
					و5			
						و6		

الجملة

/8

السؤال عدد5:
أتمم انجاز الرّسم البياني للوظائف مرتّبة:

الرسم البياني للوظائف مرتّبة



السؤال عدد5:
عرّف كرّاس الشروط الوظيفي :

.....
.....
.....

السؤال عدد6:
حدّد أنواع أجهزة التحكّم في التوقيت مع ذكر بعض الأمثلة للمنتجات بالنسبة لكل نوع:

.....
.....
.....
.....
.....
.....
.....
.....

12.5

12

12.5

المنتج: مدفأة كهربائية

يستعمل الإنسان المدفأة الكهربائية لتدفئة الأماكن الداخلية كالبيت و المكتب. ولهذا الغرض قامت المؤسسة بإنتاج المدفأة الكهربائية

السؤال عدد1: أتم إنجاز أداة التعبير الوظيفي للمدفأة الكهربائية مستعينا بالعناصر التالية:
المستعمل – الثمن – الحماية – المظهر – الغرفة – الوزن – الطاقة الكهربائية – الأرضية

/1

السؤال عدد2: أكمل صياغة وظائف الخدمات:

- و1: تمكّن المدفأة الكهربائية من الغرفة.

- و1: يجب أن يكون ثمن الجهاز مع توفير الجودة.

- و2: يجب أن توفر للمستعمل.

- و3: يجب أن يكون مظهرها يعجب

- و4:
- و5: يجب أن تشتغل المدفأة الكهربائية ب.....

- و6: يجب أن تستقر المدفأة الكهربائية على بسهولة

السؤال عدد3: حدّد خصائص الوظائف المتعلقة بالثمن و الوزن:

الوظائف	المعيار	المستوى	الليونة
- و1:	20 دينار
- و4:	الوزن

/1.5

السؤال عدد4: أتم إنجاز جدول الفرز المتقاطع:

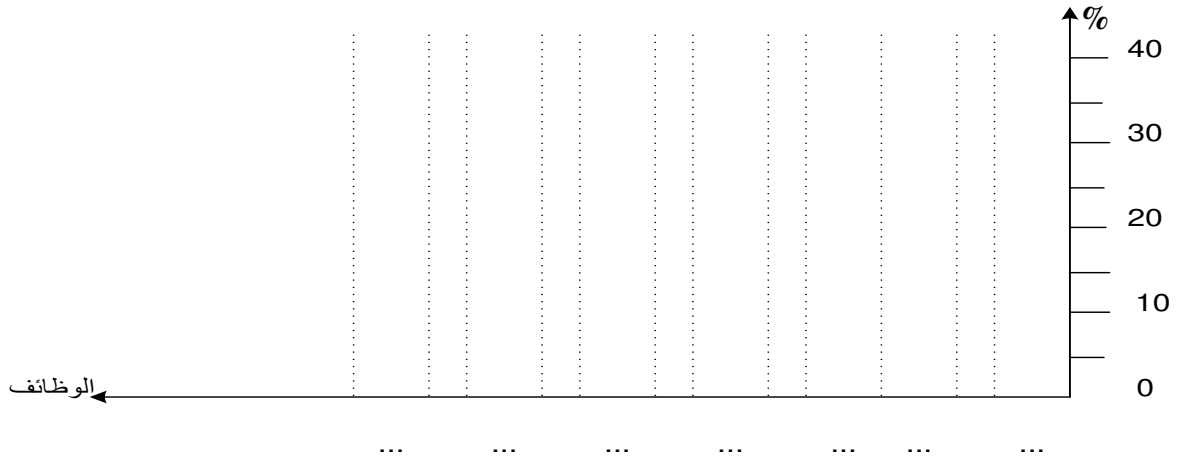
	و1	و2	و3	و4	و5	و6	مجموع النقاط	النسب المئوية
و1	<input type="checkbox"/>	<input type="checkbox"/>	<input type="checkbox"/>	<input type="checkbox"/>	<input type="checkbox"/>	<input type="checkbox"/>		
	و1	<input type="checkbox"/>	<input type="checkbox"/>	<input type="checkbox"/>	<input type="checkbox"/>	<input type="checkbox"/>		
		و2	<input type="checkbox"/>	<input type="checkbox"/>	<input type="checkbox"/>	<input type="checkbox"/>		
			و3	<input type="checkbox"/>	<input type="checkbox"/>	<input type="checkbox"/>		
				و4	<input type="checkbox"/>	<input type="checkbox"/>		
					و5	<input type="checkbox"/>		
						و6		

الجملة

/8

السؤال عدد5:
أتمم انجاز الرّسم البياني للوظائف مرتّبة:

الرسم البياني للوظائف مرتبة



السؤال عدد5:
عرّف كرّاس الشروط الوظيفي :

.....
.....
.....

السؤال عدد6:
حدّد أنواع أجهزة التحكّم في التوقيت مع ذكر بعض الأمثلة للمنتجات بالنسبة لكل نوع:

.....
.....
.....
.....
.....
.....
.....
.....

12.5

12

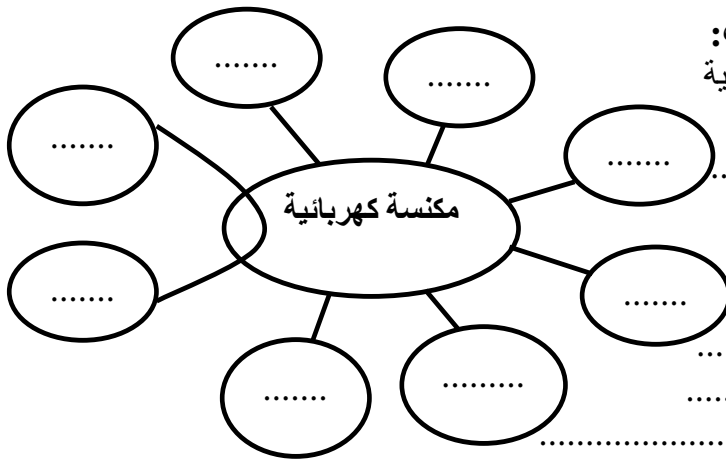
12.5

المنتج: مكنسة كهربائية

يستعمل الإنسان المكنسة الكهربائية لتنظيف المنزل من الأوساخ. ولهذا الغرض قامت المؤسسة بإنتاج المكنسة الكهربائية

السؤال عدد1: أتمم انجاز أداة التعبير الوظيفي المكنسة الكهربائية مستعينا بالعناصر التالية:
المستعمل – الثمن – الحماية – المظهر – المنزل – الوزن – الطاقة الكهربائية – الأرضية

/1



السؤال عدد2: أكمل صياغة وظائف الخدمات:

- و1: يستعمل المكنسة الكهربائية
..... المنزل .

- و1: يجب أن يكون ثمن الجهاز
مع توفير الجودة.

- و2: يجب أن توفر
للمستعمل.

- و3: يجب أن يكون مظهرها
يعجب

- و4:
و5: يجب أن تشتغل المكنسة الكهربائية ب.....

- و6: يجب أن تستقر المكنسة الكهربائية على بسهولة

السؤال عدد3: حدّد خصائص الوظائف المتعلقة بالثمن و الوزن:

/2.5

الوظائف	المعيار	المستوى	الليونة
- و1:	60 دينار
- و4:	الوزن

/1.5

السؤال عدد4: أتمم انجاز جدول الفرز المتقاطع:

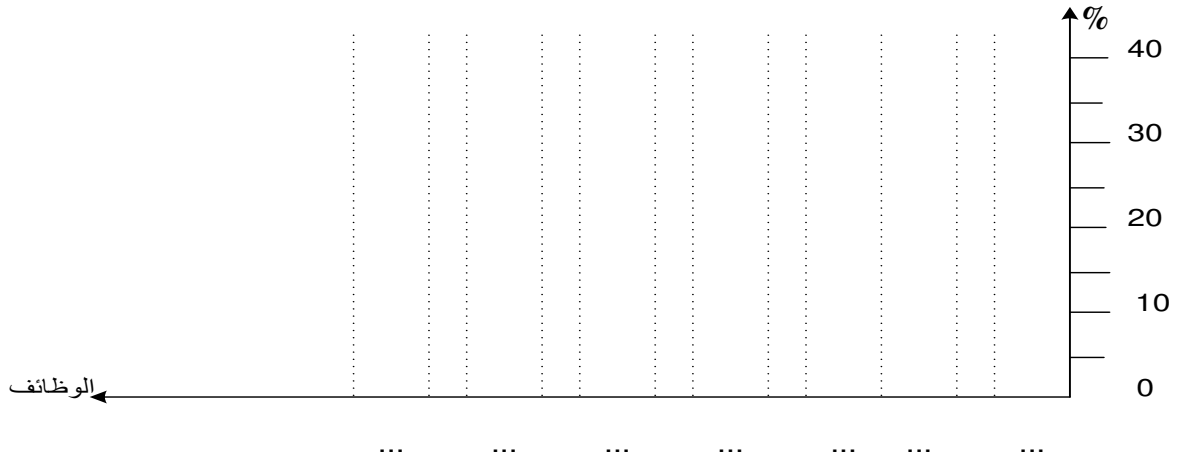
	و1	و2	و3	و4	و5	و6	مجموع النقاط	النسب المئوية
و1								
	و1							
		و2						
			و3					
				و4				
					و5			
						و6		

الجملة

/8

السؤال عدد5:
أتمم انجاز الرّسم البياني للوظائف مرتّبة:

الرسم البياني للوظائف مرتبة



السؤال عدد5:
عرّف كرّاس الشروط الوظيفي :

.....
.....
.....

السؤال عدد6:
حدّد أنواع أجهزة التحكّم في التوقيت مع ذكر بعض الأمثلة للمنتجات بالنسبة لكل نوع:

.....
.....
.....
.....
.....
.....
.....
.....

12.5

12

12.5